

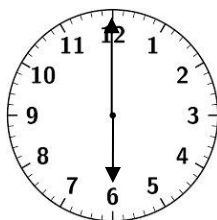
そくてい

# 時こくと時間①

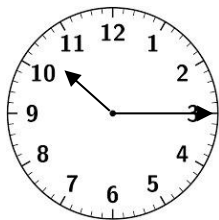
ねん 年      ぐみ 組      ばん 番      なまえ 名前

1 ある日のあおいさんの1日のようすです。


おきてから、ねるまでの時こくを見て、つぎのもんだいに答えましょう。




㉞ おきた時こく




㉟ 家を出た時こく



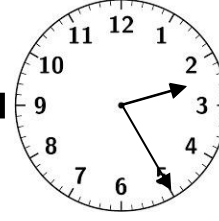
㊱ おじさんの家についた時こく



㊲ ねた時こく



㊳ 家に帰った時こく



㊴ おじさんの家を出た時こく

㉞から㊴のそれぞれの時こくを、午前、午後をつかってかきましょう。

㊲

㉟

㊱

㊳

㊴

㊵


そくてい

# 時<sup>じ</sup>こ<sup>こ</sup>と時間<sup>じかん</sup>①

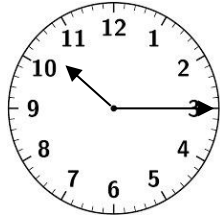
ねん 年      くみ 組      ばん 番      なまえ 名前

1 ある日のあおいさんの1日のようすです。

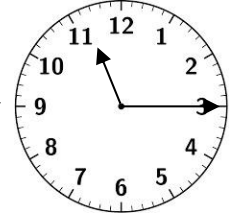
おきてから、ねるまでの時こくを見て、つぎのもんだいに答<sup>こた</sup>えましょう。




㉞ おきた時こく




㉟ 家<sup>いえ</sup>を出た時こく



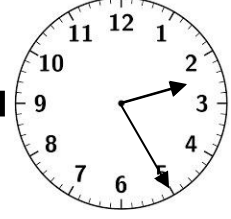
㊱ おじさんの家<sup>いえ</sup>についた時こく



㊲ ねた時こく



㊳ 家<sup>いえ</sup>に帰<sup>かえ</sup>った時こく



㊴ おじさんの家<sup>いえ</sup>を出た時こく

㉞から㊴のそれぞれの時こくを、午前<sup>ごぜん</sup>、午後<sup>ごご</sup>をつかつかきましよう。

㉞ 午前6時

㉟ 午前10時15分

㊱ 午前11時15分

㊲ 午後2時25分

㊳ 午後3時55分

㊴ 午後9時

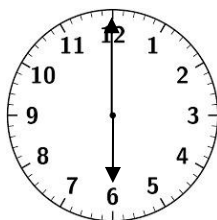
そくてい

# 時こくと時間②

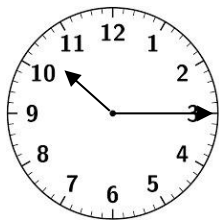
ねん 組 ばん なまえ  
年 組 番 名前

1 ある日のあおいさんの1日のようすです。


おきてから、ねるまでの時こくを見て、つぎのもんだいに答えましょう。




㊦おきた時こく




㊧家を出た時こく



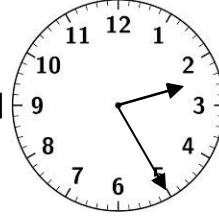
㊨おじさんの家についた時こく



㊩ねた時こく



㊪家に帰った時こく



㊫おじさんの家を出た時こく

(1) あおいさんが家を出てから、おじさんの家につくまでにかかった時間はどれだけですか。

(2) あおいさんが、おじさんの家についてから、おじさんの家を出るまでにかかった時間はどれだけですか。

(3) あおいさんが、おじさんの家を出てから、家に帰るまでにかかった時間はどれだけですか。

(4) あおいさんが おきていた時間は 何時間ですか。

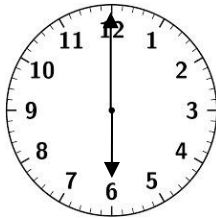
そくてい

## 時<sup>じ</sup>こ<sup>じかん</sup>くと時間②


ねん 年      くみ 組      ばん 番      なまえ 名前

1 ある日のあおいさんの1日のようすです。

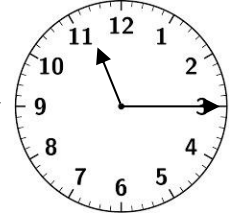
おきてから、ねるまでの時こくを見て、つぎのもんだいに答えましょう。




㊦おきた時こく




㊧家を出た時こく



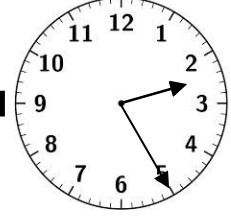
㊨おじさんの家についた時こく



㊩ねた時こく



㊪家に帰った時こく



㊫おじさんの家を出た時こく

(1) あおいさんが家を出てから、おじさんの家につくまでにかかった時間はどれだけですか。

1 時間 ( 6 0 分 )

(2) あおいさんが、おじさんの家についてから、おじさんの家を出るまでにかかった時間はどれだけですか。

3 時間 1 0 分

(3) あおいさんが、おじさんの家を出てから、家に帰るまでにかかった時間はどれだけですか。

1 時間 3 0 分 ( 9 0 分 )

(4) あおいさんが おきていた時間は 何時間ですか。

1 5 時間