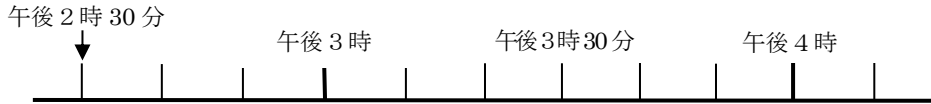


時こくや時間のもとめ方を考えよう

年 組 番 名前

1 (1) (2) の問題^{もんだい}を読んで、時こくや時間をもとめましょう。

(1) 午後 2 時 30 分から 1 時間 40 分後の時こく。



答え

(2) 午前 9 時 25 分から午前 10 時 20 分までの時間。



答え

2 あすかさんは、友だちの家に行ってから図書館^{としょかん}に行きました。(1) (2) (3) の問題を読んで、時こくや時間をもとめましょう。

(1) 午前 8 時 30 分に家を出^{しゅっぱつ}発して 20 分後に友だちの家に着^つきました。友だちの家に着いた時こくは、午前何時何分ですか。

答え

(2) 友だちの家で 1 時間すごしたあと、図書館に行きました。友だちの家を出発した時こくは、午前何時何分ですか。

答え

(3) 図書館に着いたのは午前 10 時 15 分でした。友だちの家を出発してから図書館へ行くのにかった時間は、何分ですか。

答え

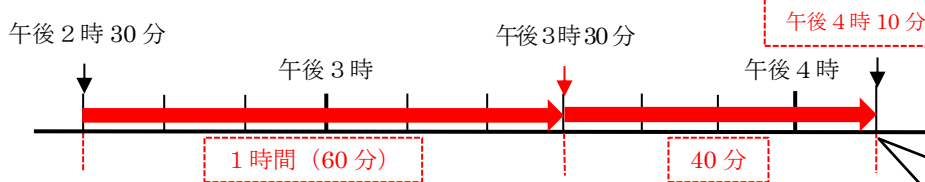
そく定

時こくや時間のもとめ方を考えよう

年 組 番 名前

1 (1) (2) の問題^{もんだい}を読んで、時こくや時間のもとめましょう。

(1) 午後 2 時 30 分から 1 時間 40 分後の時こく。

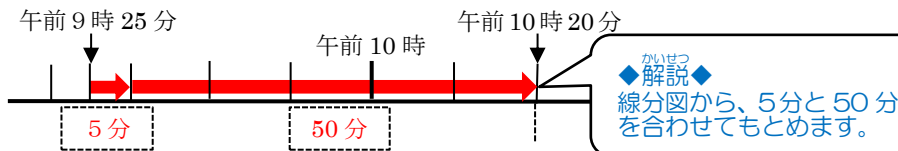


答え

午後 4 時 10 分

かいせつ
◆解説◆
線分図から、午後 2 時 30 分から 1 時間後と 40 分後の目もりを
読んでもとめます。

(2) 午前 9 時 25 分から午前 10 時 20 分までの時間。



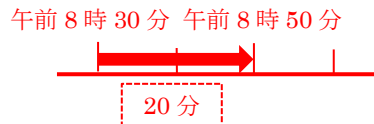
答え

55 分

かいせつ
◆解説◆
線分図から、5 分と 50 分
を合わせてもとめます。

2 あすかさんは、友だちの家^{ともだちのいえ}に行ってから図書館^{としょかん}に行きました。(1) (2) (3) の問題を読んで、時こくや時間のもとめましょう。

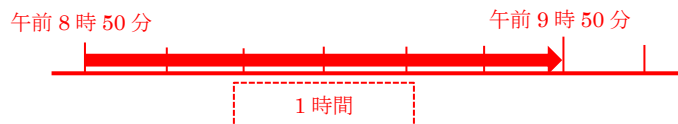
(1) 午前 8 時 30 分に家を出発^{しゅっぱつ}して 20 分後に友だちの家^{ともだちのいえ}に着きました。友だちの家に着いた時こくは、午前何時何分ですか。



答え

午前 8 時 50 分

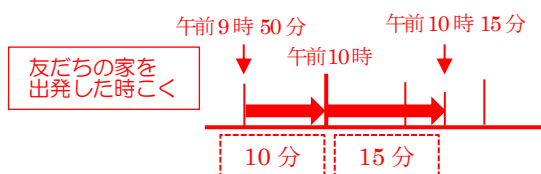
(2) 友だちの家で 1 時間^{1 じかん}すごしたあと、図書館^{としょかん}に行きました。友だちの家を出発した時こくは、午前何時何分ですか。



答え

午前 9 時 50 分

(3) 図書館に着いたのは午前 10 時 15 分でした。友だちの家を出発してから図書館へ行くのに
かかった時間は何分ですか。



答え

25 分