

# かいとうれい

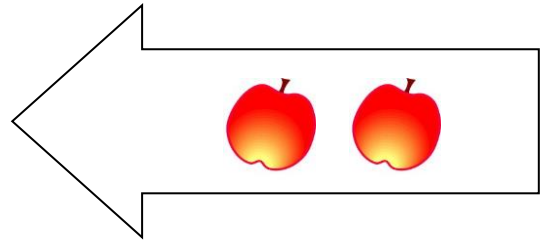

<しょうがっこう1ねんせい>

かずとけいさん

あわせていくつ ふえるといくつ ②  
ねん くみ ばん なまえ

1 ふえると いくつに なりますか。

①



しき



$$4 + 2 = 6$$

こたえ

6

こ

②



しき

$$6 + 3 = 9$$

こたえ

9

こ

2 こどもが 6にん います。4にん きました。  
こどもは、みんなで なんにんに なりましたか。

しき

$$6 + 4 = 10$$

こたえ

10

にん

3 たしざんを しましょう。

①  $5 + 3 =$

8

②  $0 + 7 =$

7

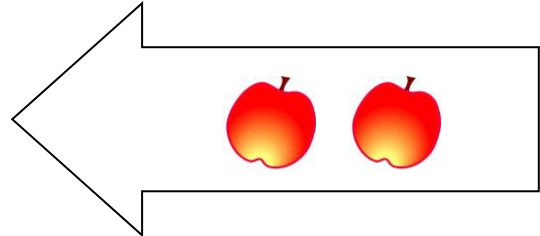

かずとけいさん

あわせていくつ ふえるといくつ ②

ねん くみ ばん なまえ

1 ふえると いくつに なりますか。

①





しき

こたえ

こ

②



しき

こたえ

こ

2 こどもが 6にん います。4にん きました。  
こどもは、みんなで なんにんに なりましたか。

しき

こたえ

にん

3 たしざんを しましょう。

①  $5 + 3 =$

②  $0 + 7 =$