

平成 27 年度 学 力 検 査

C 社 会 (11 時 30 分～12 時 15 分、45 分間)

問 題 用 紙

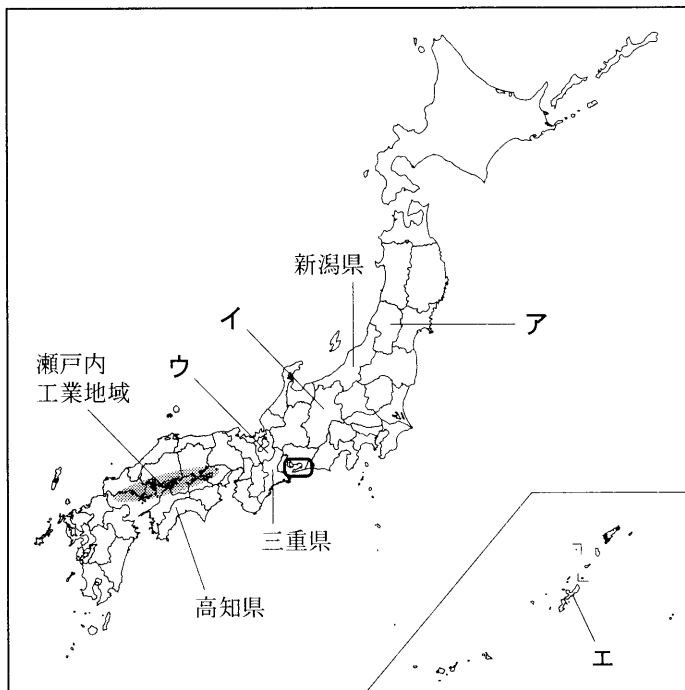
注 意

1. 「開始」の合図があるまで開いてはいけません。
2. 答えは、すべて**解答用紙**に書きなさい。
3. 問題は、**1** から **5** までで、10 ページにわたって印刷してあります。
4. 「開始」の合図で、**解答用紙**の決められた欄に**受検番号**を書きなさい。
5. 問題を読むとき、声を出してはいけません。
6. 「終了」の合図で、すぐに筆記用具を置きなさい。


1 次の略地図を見て、あとの各問いに答えなさい。(9点)

(1) 略地図にア～エで示した4つ (略地図)

の県のうち、産業別人口に占める第3次産業の割合が最も高い県として最も適当なものはどれか、ア～エから1つ選び、その記号を書きなさい。



(「日本国勢図会 2014/15」, ほかから作成)


(2) 次の資料1は、略地図に  で示したあたりに広がる瀬戸内工業地域と、全国の、2012年の工業別の製造品出荷額等の構成を示したものである。資料1の **あ** にあてはまる工業として最も適当なものはどれか、あとのア～エから1つ選び、その記号を書きなさい。

(資料1)

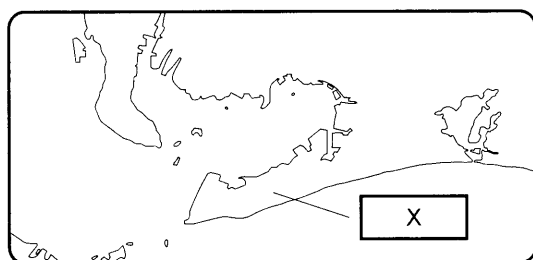
瀬戸内工業地域 総額 291,799 億円	31.1	<b>あ</b> 27.0	18.9	7.6	その他
全国 総額 2,906,961 億円	43.7	<b>あ</b> 14.9	13.8	11.7	その他
	0 100 (%)				

(「日本国勢図会 2014/15」から作成)

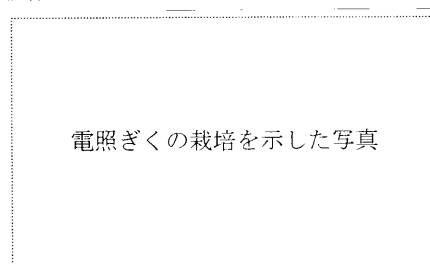
[ア. 食品工業    イ. 化学工業    ウ. 機械工業    エ. 繊維工業]

(3) 次の資料2は、略地図に  で示した範囲の拡大図、資料3は、資料2に **X** で示した半島で見られる、電照ぎくの栽培を示した写真である。資料2に **X** で示した半島の名称として最も適当なものはどれか、あとのア～エから1つ選び、その記号を書きなさい。

(資料2)



(資料3)



[ア. 渥美半島    イ. 能登半島    ウ. 房総半島    エ. 三浦半島]

- (4) 略地図に示した高知県<sup>こうち</sup>について、右の資料4は、高知県にある高知平野での農業についてまとめたものの一部である。資料4の **I** にあてはまる最も適切な言葉は何か、書きなさい。

〈資料4〉

高知平野では、かつては、米を年に2回<sup>しゅうかく</sup>収穫する **I** がさかんでした。  
**I** とは、同じ耕地で同じ作物を1年間に2回収穫することです。

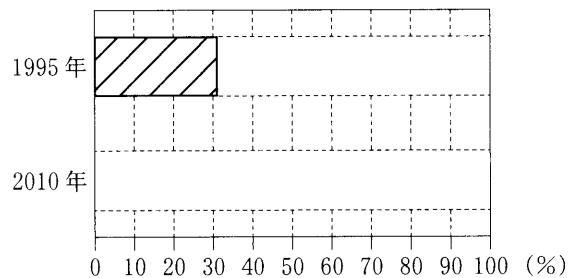
- (5) 略地図に示した三重県<sup>かそ</sup>について、あやかさんは、過疎化による影響や地域の活性化について調べるため、いくつかの資料を集めた。次の資料5は、三重県の、1995年と2010年の総面積と過疎地域の面積を示したもの、資料6は、あやかさんが資料5をもとに、三重県の、1995年と2010年の総面積に占める過疎地域の面積の割合を、棒グラフであらわす途中<sup>とちゅう</sup>のものである。資料6に示した、三重県の1995年の総面積に占める過疎地域の面積の割合をあらわす棒グラフにならって、三重県の2010年の総面積に占める過疎地域の面積の割合をあらわす棒グラフを、完成させなさい。なお、計算した結果(%)は、小数第1位を四捨五入すること。(棒グラフの作成には定規などを用いなくてもよい。)

〈資料5〉

年	総面積(km <sup>2</sup> )	過疎地域の面積(km <sup>2</sup> )
1995	5,774	1,770
2010	5,777	2,295

(注：総面積の増加は埋め立て等による。)  
 (「データで見る県勢2014」, ほかから作成)

〈資料6〉



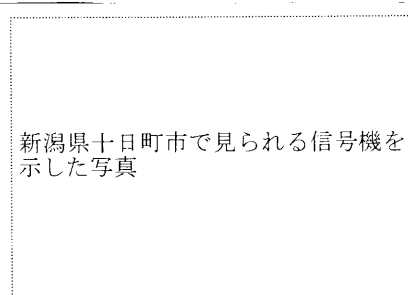
- (6) 略地図に示した新潟県<sup>にいがた</sup>について、たかしさんは、自然環境<sup>かんきょう</sup>に対応した生活のくふう<sup>くふう</sup>について調べるため、いくつかの資料を集めた。次の資料7は、新潟県十日町市<sup>とわかまち</sup>の月別の平均降水量を示したもの、資料8は、新潟県十日町市で見られる信号機を示した写真である。新潟県十日町市で見られる、自然環境に対応した生活のくふうにはどのようなことがあるか、その1つとして考えられることを、資料7、資料8から読み取れることにふれて、「信号機」という言葉を用いて、書きなさい。

〈資料7〉

月	1	2	3	4	5	6	7	8	9	10	11	12
平均降水量(mm)	415	268	179	102	106	141	210	156	172	165	232	349

(気象庁資料から作成)

〈資料8〉



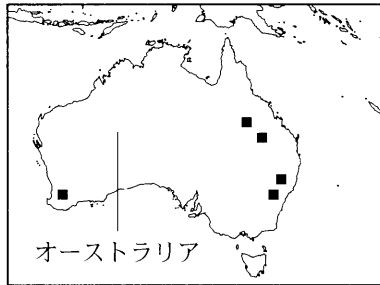
次のページへ→

2 次の略地図 A～D は、それぞれ世界の一部の地域をあらわしている。これらを見て、あとの各問いに答えなさい。(9 点)

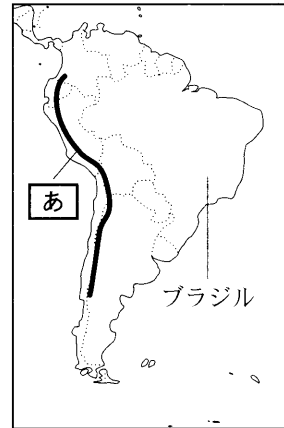
〈略地図 A〉



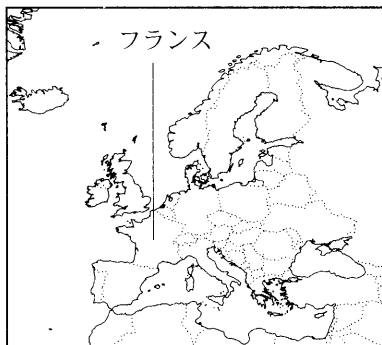
〈略地図 B〉



〈略地図 C〉



〈略地図 D〉



〔縮尺は同じではない。国境は一部省略。国境については、確定していないところもある。〕  
 (「世界国勢図会 2013/14」, ほかから作成)

(1) 右の資料 1 は、中心点とする東京から各地への距離 (資料 1) と方位が正しい地図である。略地図 A に示したアフリカ大陸として最も適当なものはどれか、資料 1 のア～エから 1 つ選び、その記号を書きなさい。



〔国境は省略。〕(「世界国勢図会 2013/14」, ほかから作成)

(2) 略地図 B に示したオーストラリアについて、次の(a), (b)の各問いに答えなさい。

(a) 次の資料 2 は、略地図 B に ■ でおもな産地を示した鉱産資源の、おもな輸出先を示したものである。略地図 B に ■ でおもな産地を示した鉱産資源は何か、その名称を書きなさい。

〈資料 2〉

輸出総計	輸出先	日本	中国	韓国	その他
26,174 万 t	%	39.6	16.8	16.1	27.5

(2009 年) (「データブック オブ・ザ・ワールド 2014」から作成)

(b) 右の資料3は、オーストラリアの国旗を示したもの、資料4は、イギリスの国旗を示したものである。資料3に示したように、オーストラリアの国旗にイギリスの国旗が入っているのは、かつて、オーストラリアとイギリスがどのような関係にあったからか、その1つとして考えられることを、書きなさい。

〈資料3〉

オーストラリアの国旗

〈資料4〉

イギリスの国旗

(3) 略地図Cについて、次の(a), (b)の各問いに答えなさい。

(a) 略地図Cに **あ** で示したあたりにのびる山脈の名称として最も適当なものはどれか、次のア～エから1つ選び、その記号を書きなさい。

〔ア. アルプス山脈    イ. アンデス山脈    ウ. ヒマラヤ山脈    エ. ロッキー山脈〕

(b) 次の資料5は、略地図Cに示したブラジルの、おもな農産物の生産量の推移を示したものの、資料6は、バイオ燃料について、えりかさんがノートにまとめたものの一部である。資料5、資料6に **X** で示した農産物として最も適当なものはどれか、あとのア～エから1つ選び、その記号を書きなさい。

〈資料5〉

農産物	2007年	2008年	2009年	2010年	2011年
<b>X</b>	54,971	64,892	67,140	71,916	73,401
とうもろこし	5,211	5,902	5,123	5,606	5,566

(単位は万t。)(「世界国勢図会 2013/14」, ほかから作成)

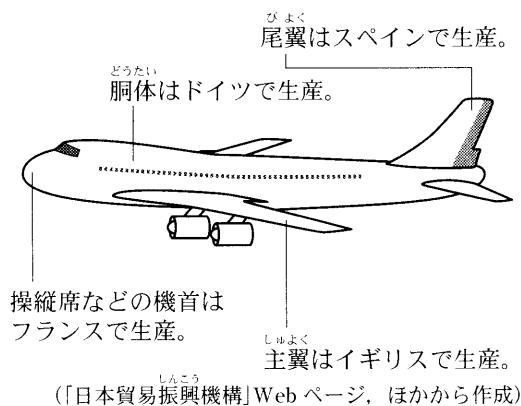
〈資料6〉

バイオ燃料は、**X** やとうもろこしなどを原料とする。ブラジルでは、**X** を原料とするバイオ燃料の開発が進む。

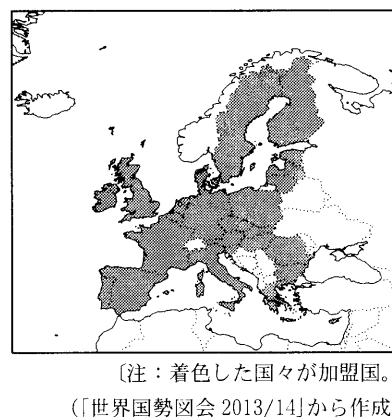
〔ア. <sup>いね</sup>稲(米)    イ. 小麦    ウ. オリーブ    エ. さとうきび〕

(4) 略地図Dに示したフランスについて、次の資料7は、フランスで組み立てが行われている航空機の、おもな部分の生産国を示したものの、資料8は、フランスなどの国々が加盟する国際組織の、2011年7月現在の加盟国を示したものである。資料7に示したように、各国で生産されている航空機のおもな部分の組み立てが、フランスで行われているのはなぜか、その理由の1つとして考えられることを、資料8に加盟国を示した国際組織の名称と、この国際組織の加盟国間での利点にふれて、「国境」と「移動」という2つの言葉を用いて、書きなさい。

〈資料7〉



〈資料8〉



次のページへ→

3 次のカードは、各時代の社会、文化や経済のようすについて、まことさんがまとめたものの一部である。これを見て、あとの各問いに答えなさい。(9点)

① <sup>じょうもん</sup>【縄文時代】 <sup>たてあな</sup> 竪穴住居をつくったり、むらの広場や周辺に墓をつくったりした。

② <sup>かまくら</sup>【鎌倉時代】 民衆や武士の心のよりどころとして、新しい仏教の教えが広まった。

③ <sup>むろまち</sup>【室町時代】 自治を進めた民衆は、豊かな文化をもち、さまざまな祭りを行った。

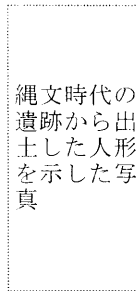
④ <sup>えど</sup>【江戸時代】 <sup>かへい</sup> 貨幣経済が広がり、自給自足に近かった農村のくらしが変化した。

⑤ 【明治時代】 教育の広がりの中で、<sup>すぐ</sup>優れた芸術家や科学者などが多くあらわれた。

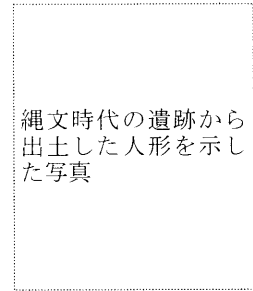
⑥ 【昭和時代】 高度経済成長が20年近く続くなかで、国民生活に変化が見られた。

(1) カード①について、右の資料1、資料2は、縄文時代の遺跡から出土した人形を示した写真である。資料1、資料2に示したような、食物の豊かさをいのりることなどに使われたと考えられる人形を何というか、書きなさい。

〈資料1〉



〈資料2〉



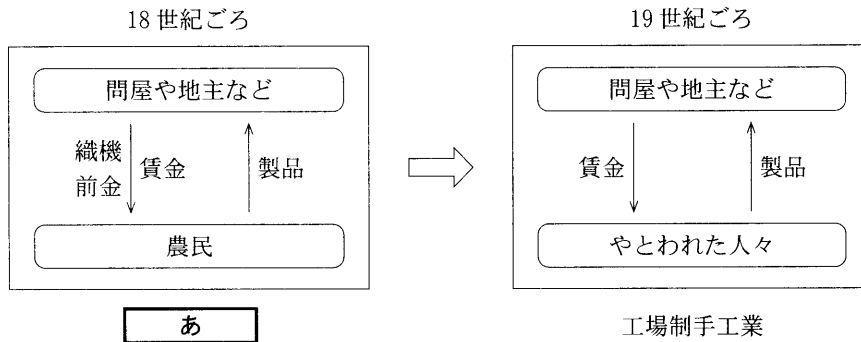
(2) カード②について、<sup>じょうどしんしゅう</sup> 浄土真宗や<sup>にちれんしゅう</sup> 日蓮宗がおこるなど、新しい仏教の動きが見られたころの社会のようすについて述べた文として最も適当なものはどれか、次のア～エから1つ選び、その記号を書きなさい。

- ア. 人々を宗門改帳に記し、<sup>しゅうもんあらためちょう</sup> 仏教の信者であることを寺に証明させ、キリスト教の禁止をいっそう強めた。
- イ. 世が変わることへの期待と不安から、「ええじゃないか」といって人々が<sup>ねっきょう</sup> 熱狂するさわぎが各地で流行した。
- ウ. 多くの守護大名をまきこんだ戦乱が10年以上続き、<sup>きょうと</sup> 京都の町の大半が焼け野原になり、地方にも戦乱が広がった。
- エ. かたかな書きの<sup>うった</sup> 訴え状がつくられるなど、農民が団結し、地頭の<sup>しやうえん</sup> 厳しい支配を荘園領主に訴える動きが見られた。

(3) カード③について、能(能楽)の合間に演じられた、民衆の生活や感情をよくあらわした劇を何というか、書きなさい。

(4) カード㉔について、次の資料3は、18世紀ごろから19世紀ごろにかけての農村で見られるようになった、織物業における生産の方法の変化について模式的に示したものである。資料3の **あ** にあてはまる、問屋や地主などが農民に対し、織機や前金を貸し、布を織らせ、製品の出来高に応じて賃金を支払う生産の方法を何というか、書きなさい。

〈資料3〉

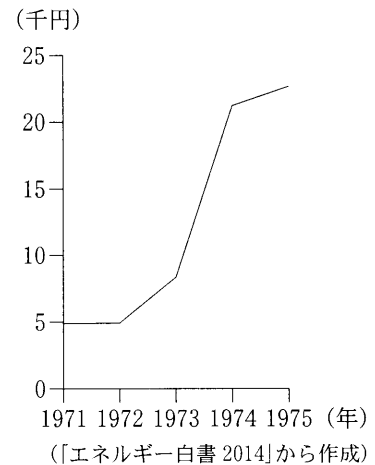


(5) カード㉕について、明治時代の文化や学問について述べた文として最も適当なものはどれか、次のア～エから1つ選び、その記号を書きなさい。

- ア. 伊能忠敬が、ヨーロッパの測量技術で海岸線を測量し、正確な日本地図をつくった。
- イ. 二葉亭四迷が、文語の表現ではなく、話し言葉で表現する言文一致体を確立させた。
- ウ. 雪舟が、中国にわたって多くの絵画技法を学び、帰国後、日本の水墨画を完成させた。
- エ. 近松門左衛門が、義理と人情になやむ男女の気持ちを、人形浄瑠璃の台本に書いた。

(6) カード㉖について、まことさんは、「1973年の石油危機によって、日本の高度経済成長が終わった。」という学習内容について、いくつかの資料を集めた。右の資料4は、1971年から1975年の、1kLあたりの原油価格の推移を示したもので、次の資料5は、1956年から1975年の、日本の経済成長率の推移を示したものである。「1973年の石油危機によって、日本の高度経済成長が終わった。」とは、具体的にどのような状況をあらわしているか、その1つとして考えられることを、資料4、資料5から読み取れることに着目して、「原油価格」と「経済成長率」という2つの言葉を用いて、書きなさい。

〈資料4〉



〈資料5〉

年	1956	1957	1958	1959	1960	1961	1962	1963	1964	1965
経済成長率(%)	6.8	8.1	6.6	11.2	12.0	11.7	7.5	10.4	9.5	6.2
年	1966	1967	1968	1969	1970	1971	1972	1973	1974	1975
経済成長率(%)	11.0	11.0	12.4	12.0	8.2	5.0	9.1	5.1	-0.5	4.0

〔注：経済成長率は国内総生産の1年間の増加率であらわしている。〕〔「数字で見る日本の100年」から作成〕

次のページへ→

4 右の表は、まりこさんの学級で歴史的分野の学習のまとめとして、学習内容をふり返る活動を行うときに設定されたテーマを示したものである。これを見て、あとの各問いに答えなさい。(9点)

テーマ1	朝廷や地方の動き
テーマ2	武家政治の特色
テーマ3	東アジアとのかかわり
テーマ4	人権思想の広がり
テーマ5	経済の発展と民衆の生活

(1) テーマ1について、次の①～④のカードは、飛鳥時代から平安時代までのできごとについて示したものである。①～④のカードを、書かれた内容の古いものから順に並べると、どのようになるか、最も適当なものをあとのア～エから1つ選び、その記号を書きなさい。

① 白河上皇は、摂政や関白の力をおさえ、院政を行った。

② 聖徳太子は、十七条の憲法を定め、役人の心構えを示した。

③ 坂上田村麻呂は、蝦夷を征討する征夷大將軍に任命された。

④ 天智天皇は、全国にわたる初めての戸籍をつくった。

ア. ①→③→④→②    イ. ②→④→③→①  
ウ. ③→①→②→④    エ. ④→②→①→③

(2) テーマ2について、右の資料1は、鎌倉時代における武士の生活についてまとめたものの一部である。資料1の「あ」にあてはまる最も適当なものは何か、次のア～エから1つ選び、その記号を書きなさい。

〈資料1〉

武士は、日ごろから馬や弓矢の武芸にはげみ、心身をきたえていた。また、戦いのときは、一族の長である「あ」を中心にして、一族がまとまって行動した。

ア. 管領    イ. 組頭    ウ. 郡司    エ. 惣領

(3) テーマ3について、倭寇を取りしめるため、室町時代の日本がとった対応について述べた文として最も適当なものはどれか、次のア～エから1つ選び、その記号を書きなさい。

ア. 明を征服するため、全国の大名を動員し、大軍を朝鮮に派遣した。  
イ. 商人や大名に渡航を許す朱印状を発行し、海外との貿易を進めた。  
ウ. 民間の貿易船と区別するため、正式な貿易船には、勘合を持たせた。  
エ. 海岸に築かれた石築地(石塁)を利用し、元の大軍の上陸をはばんだ。



(4) テーマ4について、右の資料2は、人権思想の歴史についてまとめたものの一部である。資料2の  X  にあてはまる、王権と議会の関係や法の尊重を明確に定めた、イギリスの政治の基本となったことがらを何というか、書きなさい。

〈資料2〉

年	できごと
1689	<input type="checkbox"/> X <input type="checkbox"/> が制定される
1776	アメリカ独立宣言が出される
1789	フランス人権宣言が出される

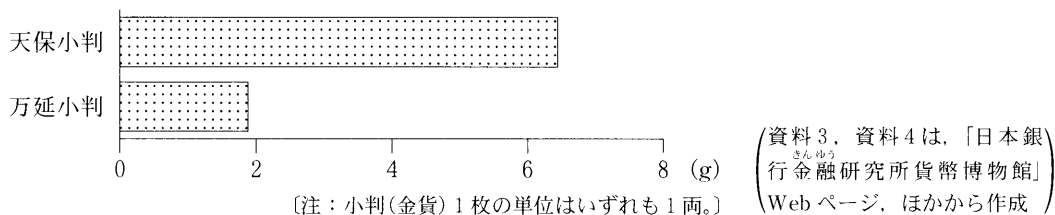
(5) テーマ5について、まりこさんは、江戸幕府が天保小判から万延小判へと小判(金貨)を造り直したことについて、いくつかの資料を作成した。次の資料3は、天保小判が使われていたころに外国人が行った、外国の銀貨と日本の銀貨や天保小判との交換についてまとめたものの一部、資料4は、天保小判と万延小判の、小判(金貨)1枚あたりにふくまれる金の量を示したものである。これについて、あとの(a)、(b)の各問いに答えなさい。

〈資料3〉

交換のようす	交換の比率
外国の銀貨を日本に持ちこみ、日本の銀貨と交換。	外国の銀貨1枚＝日本の銀貨3枚
↓	
交換のようす	交換の比率
日本で、日本の銀貨を天保小判と交換。	日本の銀貨4枚＝天保小判1枚
↓	
交換のようす	交換の比率
天保小判を外国に持ち出し、外国の銀貨と交換。	天保小判1枚＝外国の銀貨4枚

[注：交換は↓の流れで行われた。]

〈資料4〉



(a) 江戸幕府が天保小判から万延小判へと小判(金貨)を造り直したのは、どのようなことを防ごうとしたからか、その1つとして考えられることを、資料3、資料4から読み取れることに着目して、「外国」という言葉を用いて、書きなさい。

(b) 江戸幕府が天保小判から万延小判へと小判(金貨)を造り直した結果、物価が上昇した。江戸幕府が天保小判から万延小判へと小判(金貨)を造り直した結果、物価が上昇したのはなぜか、その理由の1つとして考えられることを、資料4から読み取れることをもとにして、「価値」という言葉を用いて、書きなさい。

次のページへ→

5

右の表は、あおいさんの学級で行った公民的分野の調べ学習について、班ごとのテーマをまとめたものである。これを見て、あとの各問いに答えなさい。(14点)

班	テーマ
A班	社会保障の充実 <small>じゅうじつ</small>
B班	金融のしくみ
C班	国際連合の目的
D班	象徴としての天皇 <small>しょうちよう</small>
E班	基本的人権の尊重
F班	国会の役割
G班	私たちの消費生活

- (1) A班のテーマについて、2000年から始まった、40歳以上の収入のある人々が保険料を支払う社会保険制度として最も適当なものはどれか、次のア～エから1つ選び、その記号を書きなさい。

〔ア. 介護保険    イ. 労働災害保険(労災保険)  
ウ. 年金保険    エ. 雇用保険〕

- (2) B班のテーマについて、右の資料1は、(資料1)

日本の中央銀行である、日本銀行のおもな役割を示したものである。資料1の **あ** にあてはまる最も適当な言葉は何か、書きなさい。

発券銀行	<b>あ</b>	政府の銀行
日本銀行券とよばれる紙幣を発行する銀行。	一般の銀行に資金の貸し出しなどを行う銀行。	政府の資金の出し入れなどを行う銀行。

- (3) C班のテーマについて、次の(a)、(b)の各問いに答えなさい。

- (a) 次の資料2は、国際連合の通常予算の分担額が高い上位5か国である、日本、ドイツ、アメリカ、イギリス、フランスの分担額を示したものである。日本にあたるものはどれか、最も適当なものを資料2のア～エから1つ選び、その記号を書きなさい。

(資料2)

順位	1位	2位	3位	4位	5位	分担額の世界総額 (千ドル)
国名	ア	イ	ドイツ	ウ	エ	
分担額(千ドル)	618,481	304,546	200,753	157,235	145,596	2,811,278

(2013年度)〔「世界国勢図会 2013/14」から作成〕

- (b) 次の資料3は、世界の平和と安全の維持を目的とする安全保障理事会で、近年、討議されたおもな決議案について示したものである。安全保障理事会で決議案が否決されるのは、どのようなときか、その1つとして考えられることを、資料3から読み取れることにふれて、「5か国」と「1か国」という2つの言葉を用いて、書きなさい。

(資料3)

年月	決議案の内容	決議案に反対した理事国	決議案の採決結果
2010年6月	イランに対する制裁	トルコ、ブラジル	可決
2011年2月	イスラエルに対する非難	アメリカ	否決
2012年7月	シリアに対する制裁	中国、ロシア	否決

(注：理事国は全15か国。決議案に賛成した国はいずれも9か国以上。)

(「国際連合広報センター」Webページから作成)

- (4) D班のテーマについて、天皇の国事行為には、内閣が責任を負うこととともに、何を必要とするか、「内閣」という言葉を用いて、書きなさい。

(5) E班のテーマについて、右の①～④のカードは、平等権の保障に関するできごとを示したものである。①～④のカードを、書かれた内容の古いものから順に並べると、どのようになるか、最も適当なものを次のア～エから1つ選び、その記号を書きなさい。

- ① 障害者権利条約の採択
- ② 同和対策審議会の答申
- ③ アイヌ文化振興法の制定
- ④ 男女雇用機会均等法の制定

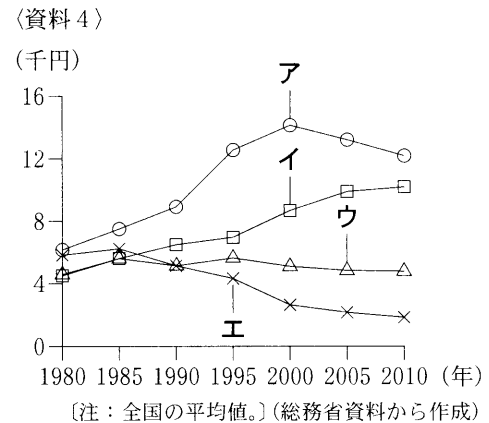
- ア. ①→②→③→④      イ. ③→①→②→④  
 ウ. ②→④→③→①      エ. ①→③→④→②

(6) F班のテーマについて、国会の種類のうち、臨時会について述べた文として最も適当なものはどれか、次のア～エから1つ選び、その記号を書きなさい。

- ア. 毎年1回、1月に召集される。  
 イ. 衆議院の解散後の、総選挙の日から30日以内に召集される。  
 ウ. 衆議院の解散中、緊急の必要があるとき、内閣の請求によって召集される。  
 エ. 内閣が必要と認めたとき、または、いずれかの議院の総議員の4分の1以上の要求があったときに召集される。

(7) G班のテーマについて、次の(a)、(b)の各問いに答えなさい。

(a) 右の資料4は、1世帯あたり1か月間の消費支出の項目のうち、通信、米、ガス代、家賃地代の推移を示したものである。通信の推移にあたるものはどれか、最も適当なものを資料4のア～エから1つ選び、その記号を書きなさい。また、そのように判断した理由を、現代日本の特色にふれて、「進展」という言葉を用いて、書きなさい。



(b) 消費者の責任について学習したあおいさんは、機能が同じである、商品X、商品Y、商品Zのうち、商品Xを選び、購入した。次の資料5は、消費者の責任について、あおいさんがノートにまとめたものの一部、資料6は、あおいさんが商品Xを選び、購入した際に参考にした、商品Xの特徴を示したものである。あおいさんが商品Xを選び、購入したのはなぜか、その理由の1つとして考えられることを、資料5、資料6から読み取れることに基づいて、「価格」という言葉を用いて、書きなさい。

(資料5)

私たちの消費行動は、社会、経済、環境などに影響をあたえます。だから、1人ひとりが、それぞれの消費行動のちがいを尊重しながら、自らの消費行動が将来にわたって及ぼす影響を自覚し、社会の発展と改善に積極的に参加することが大切です。

(資料6)

商品Xの価格は、商品Y、商品Zより高い。商品X～Zのうち、商品Xだけに、グリーンマーク(グリーンマーク)が表示されている。

(資料5、資料6は消費者庁資料、ほかから作成)

—おわり—