

平成 26 年度 学 力 検 査

C 社 会 (11 時 30 分～12 時 15 分, 45 分間)

問 題 用 紙

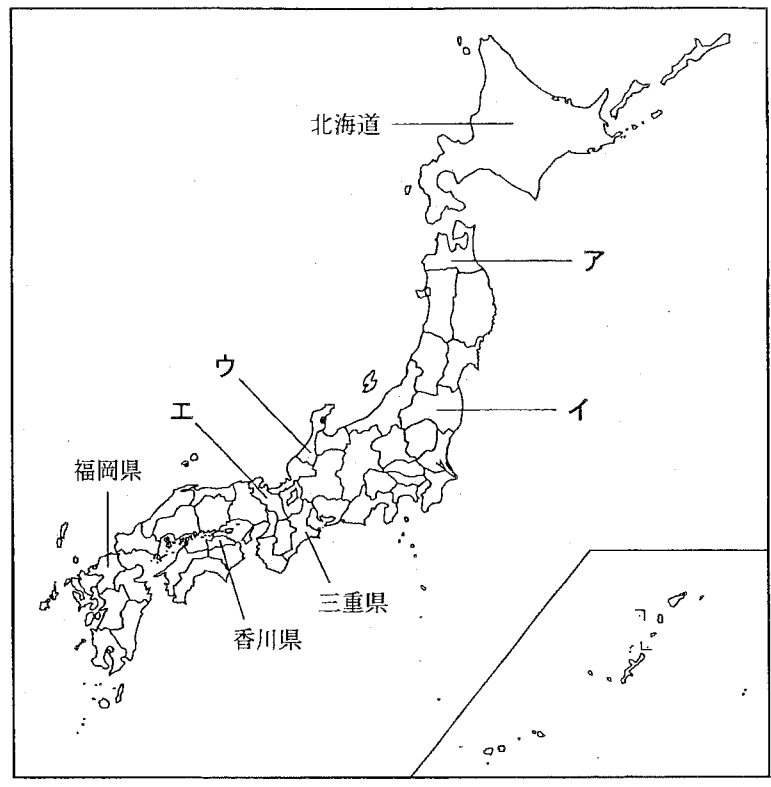
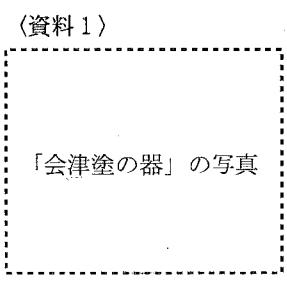
注 意

1. 「開始」の合図があるまで開いてはいけません。
2. 答えは、すべて解答用紙に書きなさい。
3. 問題は、**1** から **5** までで、10 ページにわたって印刷してあります。
4. 「開始」の合図で、解答用紙の決められた欄に受検番号を書きなさい。
5. 問題を読むとき、声を出してはいけません。
6. 「終了」の合図で、すぐに筆記用具を置きなさい。

1 次の略地図を見て、あとの各問いに答えなさい。(9点)

(1) 次の資料1は、伝統的 (略地図)

工芸品として国の指定を受けている、漆器の会津塗の1つを示した写真である。資料1に示したような、漆器の会津塗が伝統的工芸品として指定されている県はどこか、最も適当なものを、略地図中のア～エから1つ選び、その記号を書きなさい。



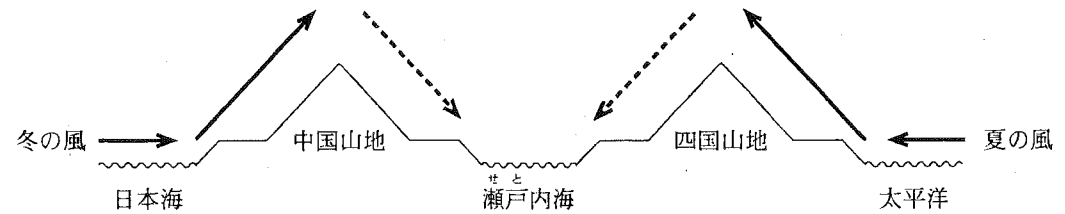
(「日本国勢図会 2013/14」, ほかから作成)

(2) 略地図に示した北海道にある、ユネスコの世界自然遺産として最も適当なものはどれか、次のア～エから1つ選び、その記号を書きなさい。

- [ア. 知床 イ. 屋久島 ウ. 白神山地 エ. 小笠原諸島]

(3) 略地図に示した香川県にある讃岐平野では、ため池をつくり、年間を通じて農業用水を確保している。次の資料2は、中国・四国地方の、冬と夏の季節風のようなすを模式的に示したものである。讃岐平野で、ため池をつくり、年間を通じて農業用水を確保しているのは、讃岐平野の気候にどのような特徴があるからか、特徴の1つとして考えられることを、資料2から読み取れる風の流れにふれて、書きなさい。

(資料2)



[注: → は濡った風の流れを, ---→ は乾いた風の流れを示す。瀬戸内海にある島は省略。]

- (4) 略地図に示した福岡県について述べた文として最も適当なものはどれか、次のア～エから1つ選び、その記号を書きなさい。

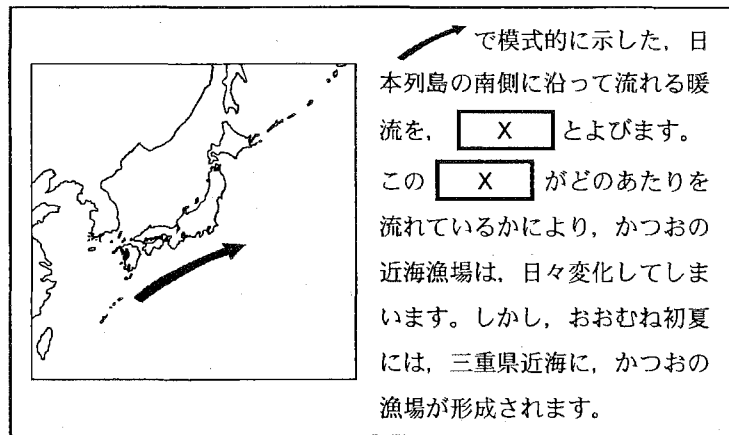
- ア. ほりをめぐらし、見張りのためのやぐらをそなえた、弥生時代の大規模な集落のあとよしのがの吉野ヶ里遺跡がある。
- イ. 15世紀の初めには、琉球王国がたてられ、第二次世界大戦後には、アメリカの統治のもとに置かれた。
- ウ. 筑豊炭田の石炭と中国から輸入された鉄鉱石などを使って鉄を生産する、八幡製鉄所が20世紀の初めにつくられた。
- エ. 桜島があり、火山活動にともなう噴出物でできたシラス台地では、畑作や畜産がさかんである。

- (5) 略地図に示した三重県について、次の(a)、(b)の各問いに答えなさい。

- (a) 右の資料3は、日本有

数のかつおぎょかくの漁獲量をほこる三重県の漁業の特徴について、やすしさんがノートにまとめたもの一部である。資料3の にあてはまる最も適当な言葉は何か、書きなさい。

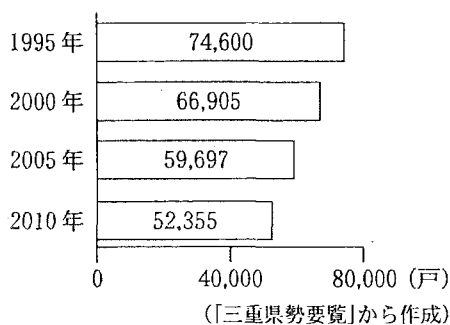
〈資料3〉




(〔三重県水産研究所〕Webページ、ほかから作成)

- (b) やすしさんは、三重県の農業についても調べるために、いくつかの資料を集めた。次の資料4は、三重県の総農家数の推移を示したもの、資料5は、三重県の耕地面積の推移を示したものである。三重県の農業には、どのような傾向がみられるか、その1つとして考えられることを、資料4、資料5から読み取れることをもとにして、「農家1戸あたりの耕地面積」という言葉を用いて、書きなさい。

〈資料4〉



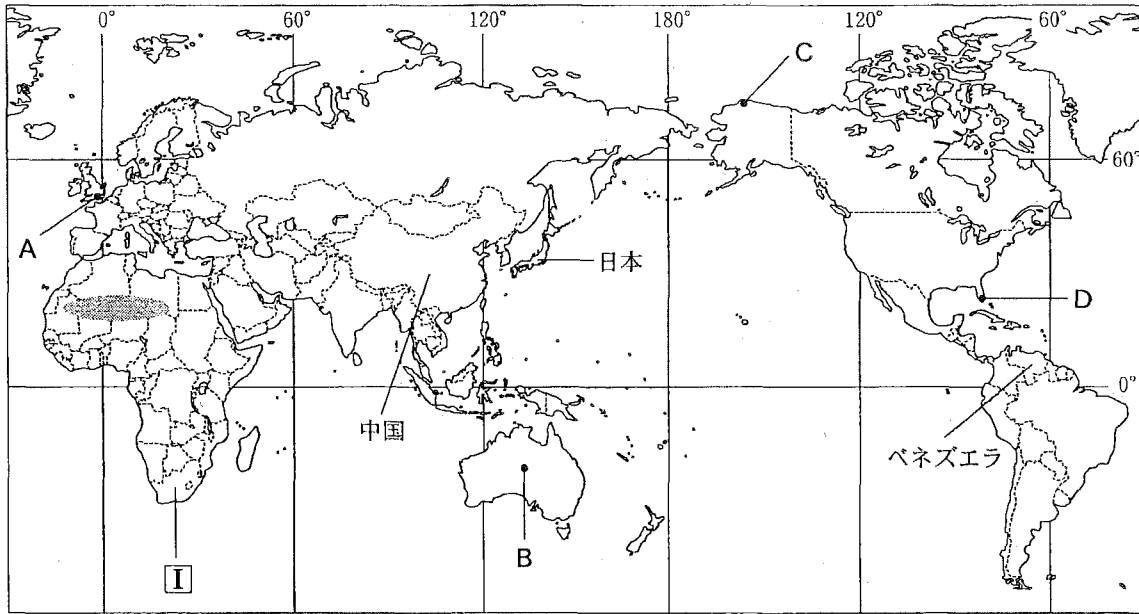
〈資料5〉



次のページへ→

2 ^{いせん}緯線と経線が直角に交わった次の略地図を見て、あとの各問いに答えなさい。(9点)

〈略地図〉



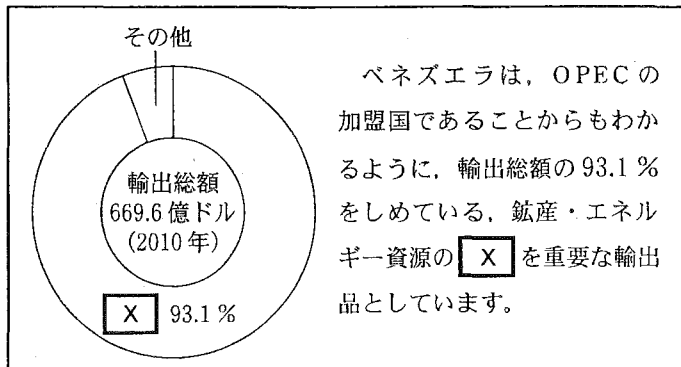
〔国境は一部省略。国境については、確定していないところもある。〕〔世界国勢図会 2012/13〕、ほかから作成

(1) 略地図に **I** で示した国について述べた文として最も適当なものはどれか、次のア～エから 1 つ選び、その記号を書きなさい。

- ア. 多くの人々が身を清めるガンジス川が流れるこの国では、最近、ソフトウェアの開発などを行う IT 産業が成長している。
- イ. アマゾン川流域に熱帯林が広がるこの国では、1992 年に、気候変動枠組み条約を採択した地球サミットが開催された。
- ウ. 英語とフランス語の 2 つの言語を公用語とするこの国では、太平洋側に、けわしいロッキー山脈がそびえている。
- エ. アパルトヘイトとよばれる人種隔離政策が廃止されたこの国では、2010 年に、サッカーの世界カップが開催された。


(2) 右の資料 1 は、略地図に示し **〈資料 1〉**

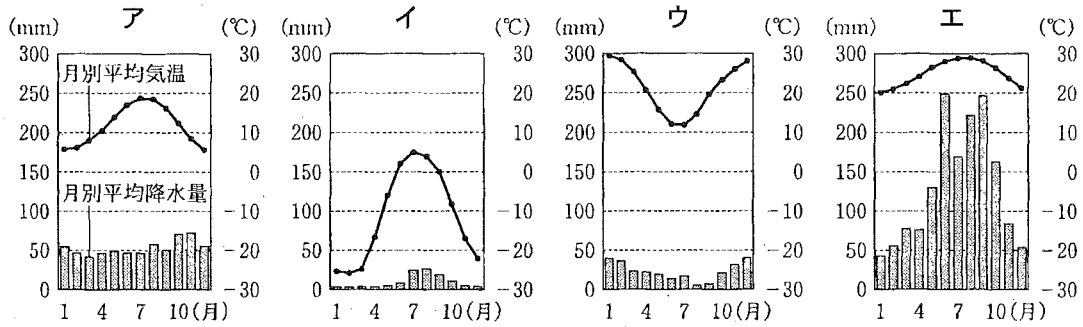
たベネズエラの輸出品の特徴について、くみこさんがノートにまとめたものの一部である。資料 1 の **X** にあてはまる最も適当なものは何か、次のア～エから 1 つ選び、その記号を書きなさい。



〔世界国勢図会 2012/13〕、ほかから作成

- ア. すず
- イ. 銅
- ウ. 石油
- エ. ボーキサイト

- (3) 略地図に  で示したあたりに広がる、世界最大の砂漠^{さばく}を何というか、書きなさい。
- (4) 次のア～エのグラフは、それぞれ略地図にA～Dで示したいずれかの都市における、月別平均降水量と月別平均気温をあらわしたものである。略地図にCで示した都市の月別平均降水量と月別平均気温をあらわしているグラフとして最も適当なものはどれか、次のア～エから1つ選び、その記号を書きなさい。



(理科年表 平成25年度)から作成

- (5) 略地図に示した中国は、米、小麦の生産量が世界第1位である。次の資料2は、2010年の、米、小麦のいずれかの、生産量が多い上位5か国とその生産量を示したものである。米の生産量が多い上位5か国とその生産量を示しているのは、資料2のア、イのうちどちらか、その記号を書きなさい。また、そのように判断した理由を、米の生産量が多い上位5か国それぞれが属する州の名称にふれて、書きなさい。

〈資料2〉

ア

生産国	中国	インド	インドネシア	バングラデシュ	ベトナム
生産量	19,721 万 t	12,062 万 t	6,641 万 t	4,936 万 t	3,999 万 t

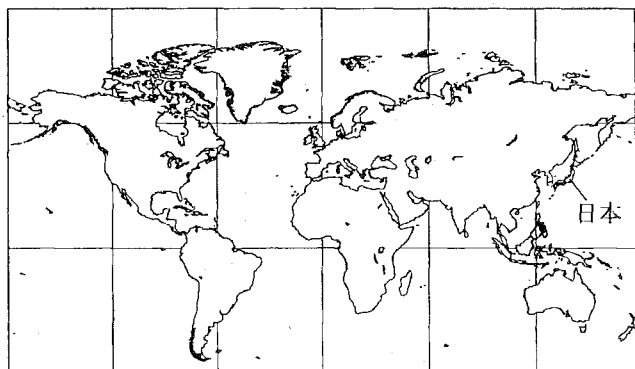
イ

生産国	中国	インド	アメリカ	ロシア	フランス
生産量	11,518 万 t	8,071 万 t	6,010 万 t	4,151 万 t	3,821 万 t

(データブック オブ・ザ・ワールド 2013年版)から作成

- (6) 右の資料3は、略地図とは中心が異なる世界地図の一部を示したものである。日本が「極東にある国」とよばれることもあるのはなぜか、その理由の1つとして考えられることを、資料3と略地図で示されている日本の位置のちがいをもとにして、「ヨーロッパ」という言葉を用いて、書きなさい。

〈資料3〉



(緯線と経線が直角に交わった地図。国境は省略。)

(世界国勢図会 2012/13, ほかから作成)

次のページへ→

- 3 次の表は、各時代の政治や外交のようすについて、あかりさんがノートにまとめたものの一部である。これを見て、あとの各問いに答えなさい。(9点)

各時代の政治や外交のようす	
①	大宝律令がつくられ、全国を支配するしくみが細かく定められた。
②	明智光秀をたおした豊臣秀吉が、織田信長の後継者の地位についた。
③	徳川家康が江戸幕府を開いた後、260年余りにわたる徳川氏の支配が確立した。
④	軍隊を整えた日本が日清戦争に勝利し、清と下関条約を結んだ。
⑤	第一次世界大戦が始まり、日本も参戦し、ドイツに宣戦布告した。
⑥	アメリカで始まった世界恐慌が、日本経済にも大きな打撃をあたえた。

- (1) 下線部①について、律令制のもとで、中央の貴族が派遣されて就いた、地方を治めるための役人を何というか、最も適当なものを次のア～エから1つ選び、その記号を書きなさい。

(ア. 地頭 イ. 名主 ウ. 国司 エ. 防人)

- (2) 下線部②について、豊臣秀吉が行ったことを述べた文として最も適当なものはどれか、次のア～エから1つ選び、その記号を書きなさい。

- ア. 源氏を破って、太政大臣となった。また、一族を高い官職につけ、多くの荘園を支配させた。
- イ. 刀狩と検地によって、一揆などの農民の抵抗を防いだ。また、武士と農民とを区別する兵農分離を進めた。
- ウ. 京都で新しい天皇を立て、南朝と対立した。また、北朝から征夷大將軍に任命されて、幕府を開いた。
- エ. 儒学を奨励したり、質を落とした貨幣を発行したりした。また、生類憐みの令を出し、動物を愛護した。

- (3) 下線部③について、次の資料1は、江戸時代の大名について、あかりさんが作成したものの一部である。資料1の にあてはまる最も適当な言葉は何か、書きなさい。

(資料1)

大名	1万石以上の領地を あたえられた武士。	親藩	徳川氏の一族。
		譜代大名	関ヶ原の戦いより前から徳川氏の家臣であった大名。
		<input checked="" type="checkbox"/> 大名	関ヶ原の戦い以後に徳川氏に従った大名。

(4) 下線部④について、日本が下関条約で獲得した遼東半島の返還を、アジア進出をねらうロシアが、フランス、ドイツとともに、日本に対して要求してきたことを何というか、書きなさい。

(5) 下線部⑤について、次のア～ウのカードは、日本が第一次世界大戦に参戦した前後の、日本のおもな外交について示したものである。ア～ウのカードを、書かれた内容の古いものから順に並べると、どのようになるか、その記号を書きなさい。

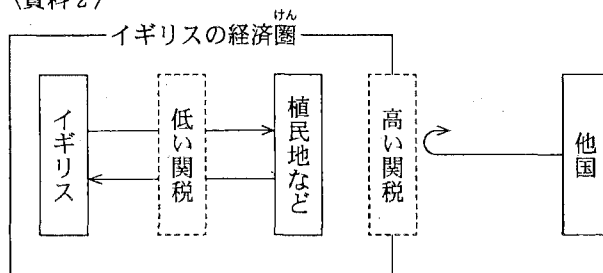
ア
ロシアとの間で、ポーツマス条約を結んだ。

イ
中国政府に対し、二十一条の要求を行った。

ウ
韓国を併合し、朝鮮総督府を設置した。

(6) 下線部⑥について、次の資料2は、イギリスが世界恐慌の混乱に対してとったブロック経済政策について、あかりさんが作成したもの的一部分である。ブロック経済政策とはどのような政策か、資料2を参考にして、「植民地」と「関税」という2つの言葉を用いて、書きなさい。

〈資料2〉



〔注：→は商品の流れを示す。〕

次のページへ→

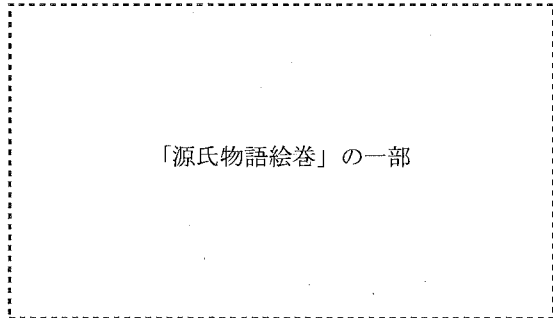
- 4 右のカードは、たかしさんの学級で歴史的分野の学習を行ったときに設定されたテーマを示したものである。これを見て、あとの各問いに答えなさい。(9点)

テーマ1	平安時代の国風文化
テーマ2	武家政権の成立
テーマ3	大航海時代と日本
テーマ4	大正時代の社会運動
テーマ5	昭和初期の日本の政治

- (1) テーマ1について、右の資料1は、「源氏物語絵巻」の一部を示したものである。資料1に示した、日本の風景や人物などをえがいた絵を何というか、最も適当なものを次のア～エから1つ選び、その記号を書きなさい。

ア. 錦絵 イ. 踏絵
 ウ. 浮世絵 エ. 大和絵

〈資料1〉



- (2) テーマ2について、右の資料2は、承久の乱について、たかしさんがノートにまとめたものの一部である。承久の乱の後、鎌倉幕府が京都に六波羅探題を置いたのはなぜか、その理由の1つとして考えられることを、資料2を参考にして、「朝廷」という言葉を用いて、書きなさい。

〈資料2〉

京都で院政を行っていた後鳥羽上皇は、1221年、鎌倉幕府をたおそうとして挙兵したが、北条氏に率いられた鎌倉幕府の大軍に敗れた。この承久の乱の後、鎌倉幕府は、京都に六波羅探題を置いた。

- (3) テーマ3について、次の(a)、(b)の各問いに答えなさい。

- (a) 右の資料3は、日本への鉄砲の伝来と、

〈資料3〉

鉄砲は、1543年、ポルトガル人を乗せた中国船がⅠに流れ着いたとき、日本に伝えられた。鉄砲は、まもなく、現在の大阪府にある、当時の自治都市のⅡなどで、さかんにつくられるようになった。

日本での鉄砲の生産について、たかしさんがノートにまとめたものの一部である。資料3のⅠ，Ⅱにあてはまる言葉の組み合わせとして最も適当なものを次のア～エから1つ選び、その記号を書きなさい。

ア. Ⅰ 種子島 Ⅱ 堺
 ウ. Ⅰ 種子島 Ⅱ 浦賀
 イ. Ⅰ 出島 Ⅱ 堺
 エ. Ⅰ 出島 Ⅱ 浦賀

(b) ヨーロッパ人のアジアへの来航が多くなった、16世紀ごろのヨーロッパでのできごとを述べた文として最も適当なものはどれか、次のア～エから1つ選び、その記号を書きなさい。

- ア. イギリスでは、産業革命とよばれる、産業と社会の変化が起こった。
 イ. ドイツのルターたちが、教会の腐敗をただそうと宗教改革を始めた。
 ウ. ロシアでは、皇帝が退位した後、ソビエトによる政府が樹立された。
 エ. フランス革命が起こり、自由、平等などをうたう人権宣言が出された。

(4) テーマ4について、右の資料4は、1922 (資料4)

年に京都で結成された全国的な組織がその創立大会で出した宣言を、要約したものの一部である。資料4で示した宣言を出した、1922年に京都で結成された全国的な組織を何というか、書きなさい。

全国に散在する部落の人々よ、団結せよ。ここにわれわれが人間を尊敬することによって、みづからを解放しようとする運動を起こしたのは当然である。われわれは、心から人生の熱と光を求めるものである。

(5) テーマ5について、次の資料5は、五・一五事件など、当時の日本の政治に大きな影響を与えたできごとが起きた、1931年4月から1936年3月までの、内閣総理大臣と衆議院で多数を占める政党について、たかしさんがノートにまとめたものの一部である。五・一五事件は、当時の日本の政治にどのような影響を与えたか、影響の1つとして考えられることを、資料5から読み取れることをもとにして、書きなさい。

(資料5)

内閣総理大臣の名前、その所属政党などと在職期間			左記の内閣総理大臣の在職期間における、衆議院で多数を占める政党とその総裁の名前	
名前	所属政党など	在職期間	政党	総裁の名前
わかづきれいじろう 若槻礼次郎	りっけんみんせいとう 立憲民政党	1931年4月～1931年12月	立憲民政党	若槻礼次郎
いぬかいつよし 犬養毅	りっけんせいゆうかい 立憲政友会	1931年12月～1932年5月	立憲政友会	犬養毅
さいとうまこと 斎藤実	海軍	1932年5月～1934年7月	立憲政友会	すずき きさぶろう 鈴木喜三郎
おかだけいすけ 岡田啓介	海軍	1934年7月～1936年3月		

(〔日本史辞典〕、ほかから作成)

次のページへ→

5

右の表は、れいこさんの学級で行った公民的分野の調べ学習について、班ごとのテーマをまとめたものである。これを見て、あとの各問いに答えなさい。(14点)

班	テーマ
A班	現代日本の特色
B班	日本の伝統と文化
C班	労働をめぐる問題
D班	国際社会の動き
E班	行政の役割と課題
F班	市場の働きと経済
G班	民主政治と選挙

- (1) A班のテーマについて、次の資料1は、1975年と2000年の、日本の人口総数と年齢別人口割合を示したものである。資料1から読み取れる現代日本の特色として最も適当なものはどれか、あとのア～エから1つ選び、その記号を書きなさい。

〈資料1〉

年	人口総数 (千人)	年齢別人口割合(%)		
		0～14歳	15～64歳	65歳以上
1975	111,940	24.3	67.7	7.9
2000	126,926	14.6	68.1	17.4

(〔人口統計資料集2013〕から作成)

[ア. 過疎化 イ. 情報化 ウ. 少子高齢化 エ. グローバル化]

- (2) B班のテーマについて、次の資料2は、日本のおもな年中行事を示したものである。「端午の節句」という年中行事を資料2に記入するとき、何月に記入すればよいか、最も適当なものを資料2のア～エから1つ選び、その記号を書きなさい。

〈資料2〉

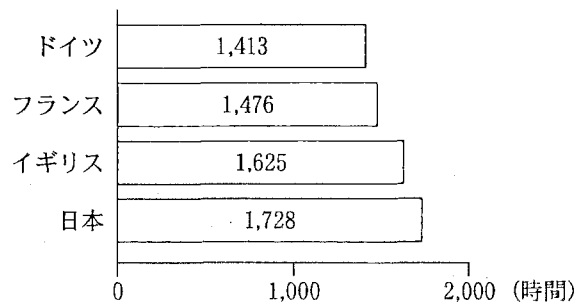
1月	2月	3月	5月	7月	8月	9月	11月	12月
初もうで	ア	ひな祭り	イ	七夕	お盆	ウ	七五三	エ

- (3) C班のテーマについて、次の(a)、(b)の各問いに答えなさい。

(a) 経済状況の変化などにより、近年、見直す企業も出てきている雇用のあり方の1つである。終身雇用とはどのようなものか、「定年」という言葉を用いて、書きなさい。

(b) 右の資料3は、2011年の、おもな国の年間労働時間を示したものである。日本でワーク・ライフ・バランス(仕事と生活の調和)をめざすためには、どのようなことが必要になるか、その1つとして考えられることを、資料3から読み取れることをもとにして、書きなさい。

〈資料3〉



(〔データブック国際労働比較2013〕から作成)

- (4) D班のテーマについて、日本が参加している経済的な地域統合として最も適当なものはどれか、次のア～エから1つ選び、その記号を書きなさい。

[ア. EU イ. APEC ウ. NAFTA エ. UNICEF]

(5) E班のテーマについて、次の(a), (b)の各問いに答えなさい。

(a) 日本国憲法で「全体の^{ほうし}奉仕者であって、一部の奉仕者ではない」と定められている、行政を担当する職員を何というか、書きなさい。

(b) 行政改革の1つである、2009年から行われた、経済活動における規制緩和^{かんわ}として最も適当なものはどれか、次のア～エから1つ選び、その記号を書きなさい。

- 〔ア. 介護^{かいご}保険制度の導入 イ. ICカード型の電子マネーの開発
ウ. 政府による電気料金の認可 エ. コンビニエンスストアでの^{はんばい}かぜ薬の販売〕

(6) F班のテーマについて、一つひとつのものやサービスの価格ではなく、いろいろな商品の価格をひとまとめにして、平均化したものを何というか、書きなさい。

(7) G班のテーマについて、れいこさんは、投票率の低下を防ぐしくみについて、いくつかの資料を集めた。次の資料4は、期日前投票^{ぜん}の制度について示したもの、資料5は、2009年に行われた衆議院議員選挙で投票しなかった人に、その理由をたずねた結果を示したものの一部である。また、資料6は、投票率の低下を防ぐしくみについてのG班での話し合いで、れいこさんが出した意見の内容を示したものである。資料6の [X] にあてはまる、意見の内容は何か、その1つとして考えられることを、資料4、資料5から読み取れることをもとにして、書きなさい。

〈資料4〉

期日前投票の制度は、仕事や旅行、レジャー、冠婚葬祭^{かんこんそうさい}などの理由で当日投票できない人が、投票日前であっても投票日と同じ方法で投票を行うことができるものです。

(総務省資料、ほかから作成)

〈資料5〉

理由	%
用があったから	49.1
病気だったから	17.0
適当な候補者も政党もなかったから	13.9
選挙にあまり関心がなかったから	12.6
^{めんどう} 面倒だから	10.4

(複数回答)

([第45回衆議院議員総選挙の実態]から作成)

〈資料6〉

期日前投票の制度をより充^{じゅうじつ}実させれば、
[X] と考えられるので、
私は、選挙における投票率の低下を防ぐことができるのではないかと思います。

—おわり—