

平成 21 年度 学力 検査

C 社 会 (11 時 30 分～12 時 15 分, 45 分間)

問 題 用 紙

注 意

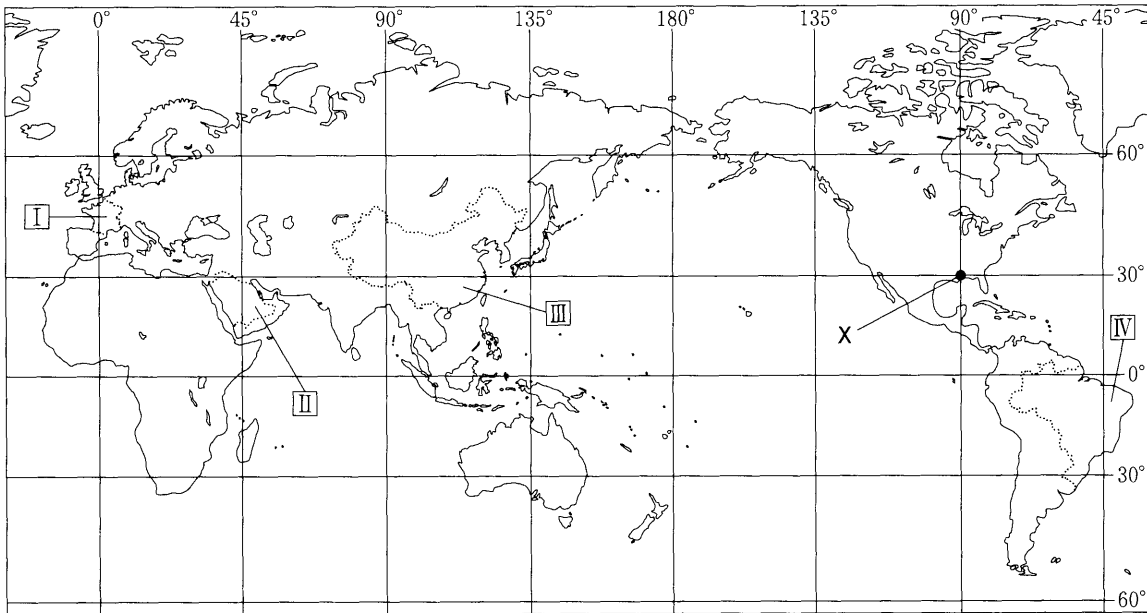
1. 「開始」の合図があるまで開いてはいけません。
2. 答えは、すべて**解答用紙**に書きなさい。
3. 問題は、**1** から **5** までで、10 ページにわたって印刷してあります。
4. 「開始」の合図で、**解答用紙**の決められた欄に**受検番号**を書きなさい。
5. 問題を読むとき、声を出してはいけません。
6. 「終了」の合図で、すぐに筆記用具を置きなさい。

1

いせん けいせん

緯線と経線が直角に交わった次の略地図を見て、あとの各問いに答えなさい。(9点)

〈略地図〉



〔国境は一部省略。国境については、確定していないところもある。〕(「2007/08 世界国勢図会」, ほかから作成)


(1) 略地図にXで示した地点の位置を、緯度と経度で表すとどうなるか、最も適当なものを次のア～エから1つ選び、その記号を書きなさい。

- | | |
|---------------------|---------------------|
| ア. 北緯 30 度, 東経 90 度 | イ. 北緯 30 度, 西経 90 度 |
| ウ. 南緯 30 度, 東経 90 度 | エ. 南緯 30 度, 西経 90 度 |

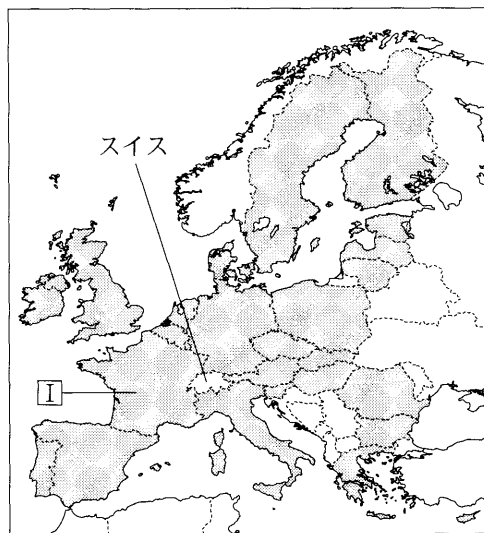
(2) 略地図にⅠ, Ⅱ, Ⅲで示した国があるのは何という大陸か、大陸名を書きなさい。


(3) 右の資料1は、略地図にⅠで示した国の周辺を 〈資料1〉

表したものである。このことについて、次の(a), (b)の各問いに答えなさい。

(a) 資料1の  で示した国々は、ともに経済や政治の結びつきを強めようとしている。これらの国々が加盟している、1993年に発足した国際組織を何というか、書きなさい。

(b) まわりを海で囲まれた島国(海洋国)に対し、資料1に示したスイスのように、国土が海に面していない国を何というか、書きなさい。



〔注:  は、2007年現在の加盟国を示している。〕
(「2007/08 世界国勢図会」, ほかから作成)

(4) 右の資料2は、略地図にⅠ～Ⅳで示した4か国と日本のそれぞれの総発電量と発電量の内訳(2004年)を示した4か国と日本のそれぞれの総発電量と発電量の内訳を示したものである。このことについて、次の(a)、(b)の各問いに答えなさい。

略地図に示した国の記号	総発電量(億kWh)	発電量の内訳			
		A(%)	B(%)	C(%)	その他(%)
Ⅰ	5,722	10.1	78.3	11.3	0.2
Ⅱ	1,565	100.0	—	—	—
Ⅲ	21,937	81.7	2.3	16.0	—
Ⅳ	3,875	14.2	3.0	82.8	—
日本	10,801	63.9	26.1	9.5	0.4

〔注：発電量の内訳について、四捨五入の関係から、必ずしも合計は100%にならない。〕

(「2008 データブック オブ・ザ・ワールド」から作成)

(a) 資料2に示したA、B、Cは、それぞれ水力、火力、原子力のいずれかの発電の方法を表している。A、B、Cにあてはまる発電の方法の組み合わせとして最も適当なものを、次のア～エから1つ選び、その記号を書きなさい。

- 〔ア. A—水力 B—火力 C—原子力 イ. A—水力 B—原子力 C—火力〕
 〔ウ. A—火力 B—水力 C—原子力 エ. A—火力 B—原子力 C—水力〕

(b) 資料2の「その他」には、太陽光や風力などの自然エネルギーを利用した新しい発電の方法がふくまれる。現在、太陽光や風力などの自然エネルギーを利用した新しい発電の方法には、どのような課題があるか、最も適当なものを次のア～エから1つ選び、その記号を書きなさい。

- 〔ア. 放射性廃棄物の処理・処分が難しい。〕
 〔イ. 化石燃料を大量に消費する。〕
 〔ウ. 発電能力が小さく安定した供給が難しい。〕
 〔エ. ダムの建設による生態系への影響がある。〕

(5) 次の資料3は、日本企業が略地図にⅢで示した国に進出した理由についてのアンケート結果、資料4は、Ⅲで示した国と日本の労働力人口および製造業における1か月あたりの平均賃金の比較を示したものである。日本企業がⅢで示した国に進出した理由のうち、資料3のDにあてはまる理由は何であると考えられるか、資料4から読み取れることをもとにして、書きなさい。

〔資料3〕 日本企業がⅢで示した国に進出した理由

進出した理由	(%)
海外生産・販売拠点を多方面に広げるため。	56.1
D	52.4
Ⅲで示した国の国内市場を新しく開発し、確保するため。	50.1
安い製品、原材料を活用するため。	16.9
多くの注文を確保するため。	13.9

〔注：アンケート調査は、1999年から2000年にかけて行われ、複数の回答を可としている。〕

〔資料4〕 Ⅲで示した国と日本の労働力人口および製造業における1か月あたりの平均賃金の比較(2000年)

	労働力人口(万人)	平均賃金(円)
Ⅲで示した国	73,992	9,492
日本	6,768	355,500

〔注：労働力人口とは、総人口のうち、満15歳以上の人口から通学者、家事に従事する者、病気や高齢で働けない者を差し引いた人口。〕

(資料3は、「通商白書2001」、資料4は、「2002/03世界国勢図会」、「2002/03日本国勢図会」、ほかから作成)

次のページへ→

2 次の略地図を見て、あとの各問いに答えなさい。(9点)

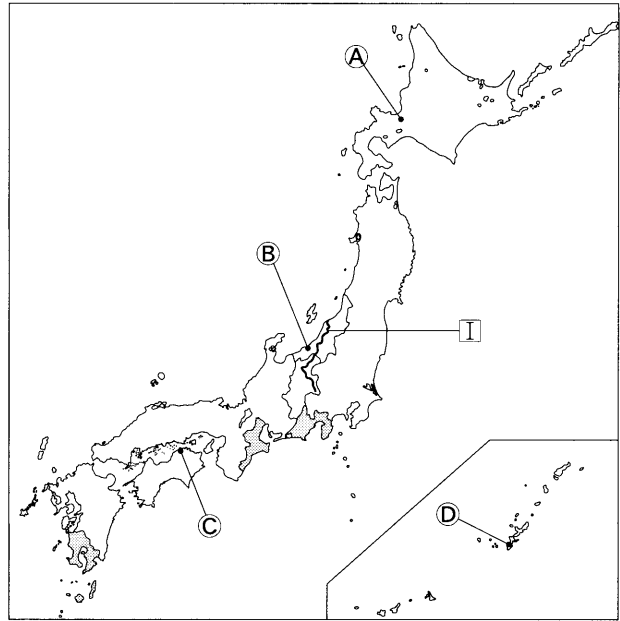
(1) 略地図にⅠで示した信濃川について (略地図)

て、次の(a), (b)の各問いに答えなさい。

(a) 次の文中の(①), (②)のそれぞれにあてはまる県名の組み合わせとして最も適当なものを、次のア～エから1つ選び、その記号を書きなさい。

信濃川は、(①)県から河口のある(②)県に流れている。

- ア. ① 岐阜 ② 富山
- イ. ① 岐阜 ② 新潟
- ウ. ① 長野 ② 富山
- エ. ① 長野 ② 新潟



(「2008/09 日本国勢図会」, ほかから作成)

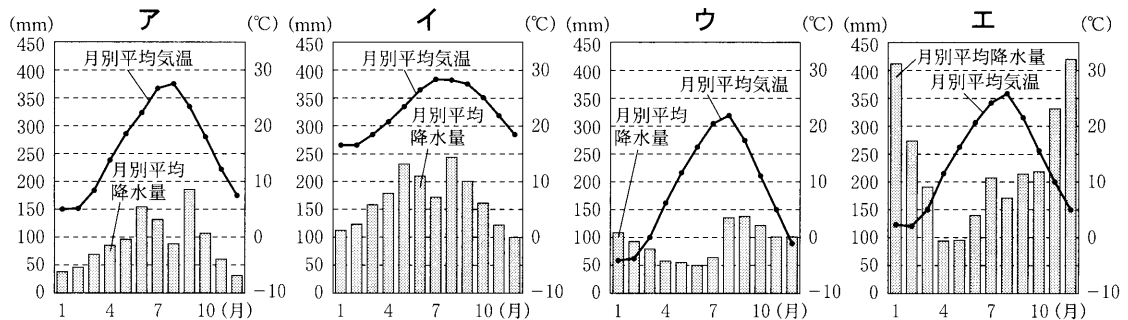
(b) 次の資料1は、信濃川をふくむ日本の5つの川と外国の6つの川について、河口からの距離と標高の関係を示したものである。日本の川にはどのような特徴があるか、資料1を参考にして、書きなさい。

〈資料1〉

日本の5つの川と外国の6つの川の河口からの距離と標高の関係を示した図

[注：河口からの距離は1300 km, 標高は1200 mまでの範囲で作成した。] (「日本の川」, ほかから作成)

(2) 次のア～エのグラフは、それぞれ略地図にA～Dで示したいずれかの都市における、月別平均降水量と月別平均気温を表したものである。略地図にCで示した都市の月別平均降水量と月別平均気温を表しているグラフはどれか、最も適当なものを次のア～エから1つ選び、その記号を書きなさい。



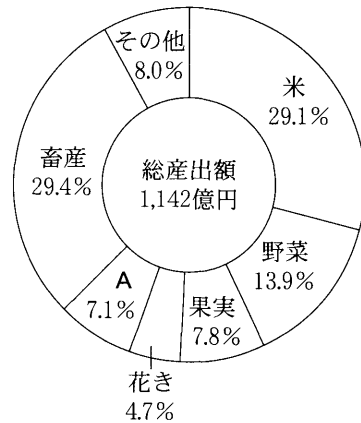
(「2008/09 日本国勢図会」から作成)

(3) 三重県の農業と日本の農業について、次の(a)～(c)の各問いに答えなさい。

(a) 右の資料2は、三重県の農業産出額の内訳を (資料2) 三重県の農業産出額の内訳(2006年)

示したものである。略地図に ● で示した3つの県は、資料2にあるAの農作物の収穫量上位3県である。Aの農作物が栽培されている場所を示す地図記号として最も適当なものを、次のア～エから1つ選び、その記号を書きなさい。

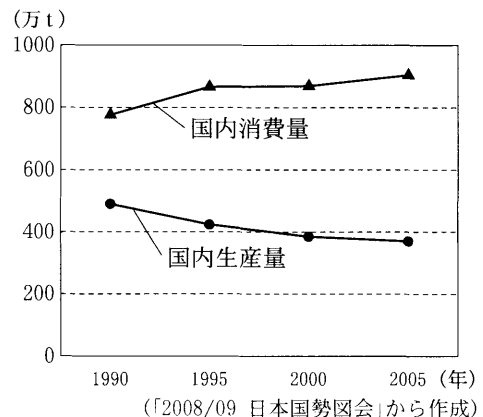
- | | | | |
|----|----|----|----|
| ア. | ▽▽ | イ. | ○○ |
| ウ. | △△ | エ. | |



〔注：花きとは、観賞のための植物。〕
(農林水産省のホームページ、ほかから作成)

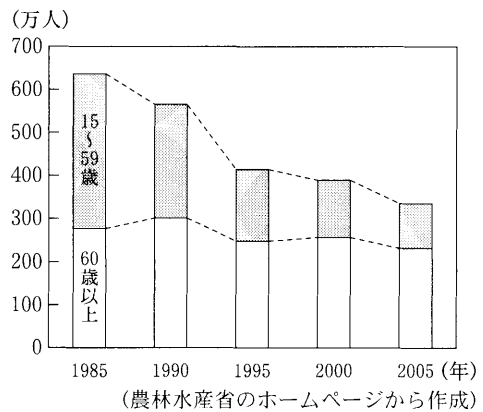
(b) 右の資料3は、日本における果実の国内消費量、国内生産量の推移を示したものである。資料3から、日本における果実の自給率はどのように推移していると考えられるか、国内消費量、国内生産量の推移にふれて、書きなさい。

(資料3) 日本における果実の国内消費量、国内生産量の推移



(c) 右の資料4は、日本の農業就業人口の推移を示したものである。農業就業人口が減少する中、日本の農業にはどのような課題があるか、資料4に示した年齢別の農業就業人口の推移に着目して、書きなさい。

(資料4) 日本の農業就業人口の推移



次のページへ→

- 3 次の表は、各時代区分ごとのようすや文化の特色の一部についてまとめたものである。これを見て、あとの各問いに答えなさい。(9点)

時代区分	各時代区分ごとのようすや文化の特色の一部について
古代	① 仏教中心の文化には国際的影響が見られたが、やがて② 国風文化が貴族の中から生まれた。③
中世	④ 民衆の団結によって自治が進んだり、産業が発達したりして、民衆の間にも文化が広がった。⑤
近世	社会が安定するにつれて、武士や庶民の中から多くの学者が出て、⑥ 学問が発達した。
近代	⑦ 欧米の文化が取り入れられたり、教育が普及したりして、医学・物理学などが発達した。

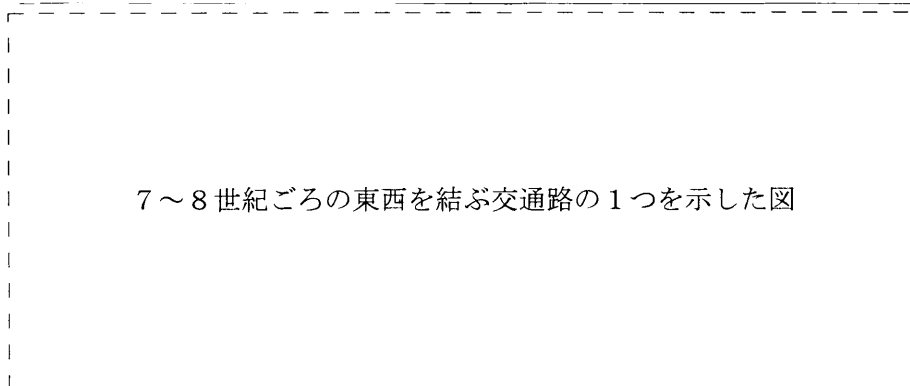
- (1) 下線部①～③について、次の(a)～(c)の各問いに答えなさい。

- (a) 下線部①について、飛鳥時代の日本における仏教のようすを述べた文として最も適当なものを、次のア～エから1つ選び、その記号を書きなさい。

- ア. 阿弥陀仏にすがって死後に極楽浄土に生まれ変わろうという浄土信仰が広がった。
 イ. 行基が民衆とともに橋や用水路をつくり、民衆のあいだに仏教を広めた。
 ウ. 渡来人がもたらした技術によって仏像や法隆寺などの寺が作られた。
 エ. 座禅により自力でさとりを開く禅宗が、栄西や道元により宋から伝えられた。

- (b) 下線部②について、次の資料1の――は、7～8世紀ごろの東西を結ぶ交通路の1つを示している。資料1に示した東西を結ぶ交通路を何というか、書きなさい。

〈資料1〉



- (c) 下線部③について、平安時代になんか文字で書かれた作品として最も適当なものを、次のア～エから1つ選び、その記号を書きなさい。

- ア. 『万葉集』 イ. 『古事記』 ウ. 『日本書紀』 エ. 『源氏物語』

(2) 下線部④, ⑤について, 次の(a), (b)の各問いに答えなさい。

(a) 下線部④について, 右の資料2は, 正長しょうちやうの土一揆つちいつきの碑文ひぶんであり, 資料3は, その意味を示したものである。当時, 農民たちが土一揆を起こして要求したことにより, 幕府ばくふなどが出した, 借金を帳消しにする命令を何というか, 書きなさい。

〈資料2〉 〈資料3〉

「正長の土一揆の碑文」
の写真

正長元(1428)年以前については, 神戸かんべ4か郷ごうの借金は帳消しにする。

(b) 下線部⑤について, 室町時代むろまちの文化のようすを述べた文として最も適当なものを, 次のア～エから1つ選び, その記号を書きなさい。

- ア. 義理と人情の世界に生きる男女ひげきの悲劇などをえがいた, 人形浄瑠璃にんぎょうじやうるりが親しまれた。
- イ. 御伽草子おとぎぞうしという, 幸福や富を求める民衆の夢が語られている絵入り物語が喜ばれた。
- ウ. 民衆の生活をおもしろおかしく表現し世相せそうを皮肉ひにく, 狂歌きやうかや川柳せんりゆうが流行した。
- エ. 活版印刷かつはんいんさつの普及によって, 民衆向けの新聞しんぶんや雑誌ざっしの発行がさかんになった。

(3) 下線部⑥について, 右の資料4は, 西せい (資料4)

洋やうの解剖書かいぼうしょを翻訳した蘭学者らんがくしやが書いたものを現代語訳したものの一部である。資料4の文中にある『ターヘル・アナトミア』という西洋の解剖書を翻訳した蘭学者の1人はだれか, 最も適当なものを次のア～エから1つ選び, その記号を書きなさい。

なんとかして, この『ターヘル・アナトミア』の一部分でも新たに翻訳したならば, 身体の内外的ことも明確ちりようとなって, 今日の治療ちりようのうえにも大きな利益となるであろう。

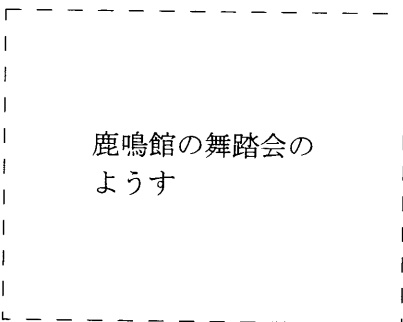
〔注: ターヘルとは, 「図譜・図集」という意味。
アナトミアとは, 「解剖学」という意味。〕

- ア. 杉田玄白すぎた げんぱく イ. 伊能忠敬いのうただたか ウ. 渡辺崋山わたなべ かにん エ. 高野長英たかの ちやうえい


(4) 下線部⑦について, 次の資料5は, 当時の政府が開いた舞踏会ぶとうかいのようすをえがいたものである。資料5にえがかれたような舞踏会を政府が開いたのはなぜか, その理由の1つとして考えられることを資料6を参考に, 江戸時代末期以来の外交問題えいどにふれて, 書きなさい。

〈資料5〉 舞踏会のようす

〈資料6〉 ノルマントン号事件ふろうしやうの風刺画



鹿鳴館の舞踏会のようす



ノルマントン号事件の風刺画

次のページへ→

4 右の表は、あやのさんのクラスで歴史的
分野の学習を行ったときに設定された3つ
のテーマである。これを見て、あとの各問
いに答えなさい。(9点)

テーマ1	江戸幕府の政治改革とその内容
テーマ2	農民や土地に関する制度の変化
テーマ3	国際平和を維持する機関の設立

(1) 右の資料1は、テーマ1について調べ

たことを年代順にまとめたものである。
このことについて、次の(a)、(b)の各問に
答えなさい。

(a) 資料1のⅠからⅢまでの期間に起
こった出来事について述べた文として
最も適当なものを、次のア～エから1
つ選び、その記号を書きなさい。

Ⅰ	享保の改革では、新田開発をすすめて、幕府収入の増加につとめた。
Ⅱ	寛政の改革では、旗本や御家人の生活難を救うため、借金を帳消しにした。
Ⅲ	天保の改革では、江戸・大阪周辺の農村を幕府の領地にしようとした。

- ア. 開国に反対した人々を処罰した井伊直弼が、江戸城の桜田門外で暗殺された。
イ. 老中の田沼意次が商人たちに株仲間の結成を奨励し、特権を与えて税を取った。
ウ. 大塩平八郎が同志や貧しい人々によびかけて、大阪で乱を起こした。
エ. 幕府は、大名を1年おきに領地と江戸を往復させる参勤交代の制度を定めた。

(b) 資料1のⅢについて、天保の改革が行われたころに世界で起こっていた出来事として最も適当なものを、次のア～エから1つ選び、その記号を書きなさい。

[ア. アメリカの独立 イ. フランス革命 ウ. アヘン戦争 エ. ロシア革命]

(2) テーマ2について、次の(a)～(c)の各問いに答えなさい。

(a) 次のア～エのカードは、古代から近世にかけての農民や土地に関する制度についてまとめたものである。ア～エのカードを、書かれた内容の古いものから順に並べると、どのようになるか、その記号を書きなさい。

ア 地頭がおかれた荘園では、荘園領主とは別に地頭が農民を支配しはじめた。

イ 新しく開墾した土地は自分の土地にできる、墾田永年私財法が出された。

ウ 田畑の広さや土地のよしあし、耕作者を調べる太閤検地が行われた。

エ 幕府や藩は、五人組を組織して年貢納入や犯罪防止に連帯責任をとらせた。

(b) 右の資料 2 は、明治政府が財政の (資料 2)

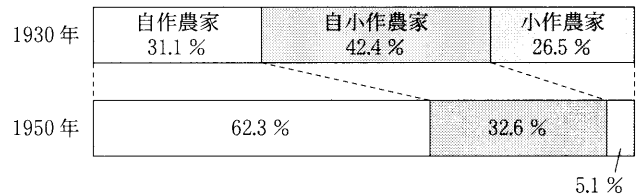
基礎を固めるために行った、地租改正の改正前(江戸時代)と改正後の比較を示したものである。資料 2 の **A** にあてはまる言葉を書きなさい。

	改正前(江戸時代)	改正後
納税者	耕作者	土地所有者
納税方法	米で納入	A で納入
課税対象と税率	収穫高 <small>しゅうかくだか</small> に対する割合(五公五民, 四公六民など)	地価の3%(のち2.5%に引き下げられた)

〔注：改正前(江戸時代)の納税方法には一部、米によらない場合があった。〕

(c) 右の資料 3 は、1930 年と 1950 年 (資料 3) 農家の経営形態の変化

の農家の経営形態の変化を示したものである。農家の経営形態は、第二次世界大戦後にどのように変化したか、戦後の民主化政策の 1 つにふれて、資料 3 から読み取り、簡単に書きなさい。



(「完結昭和国勢総覧」から作成)

(3) テーマ 3 について、次の(a), (b)の各問いに答えなさい。

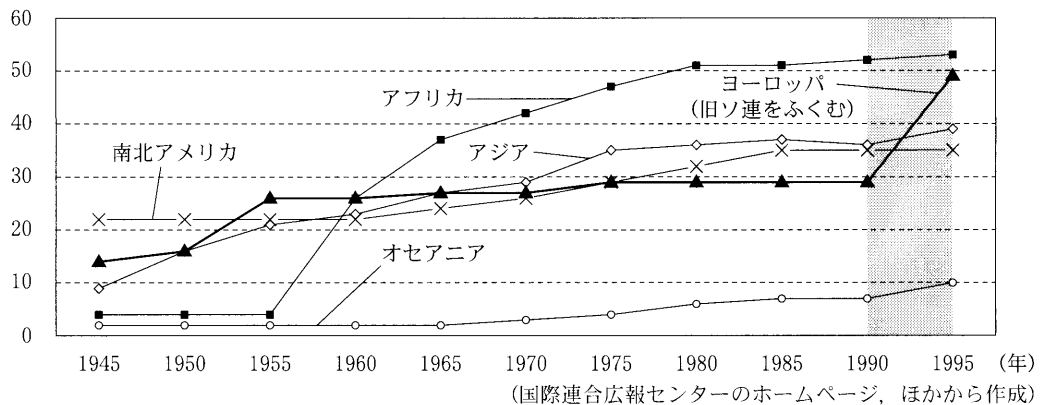
(a) 国際連盟こくさいれんめいが設立された翌年、ワシントン会議が開かれた。ワシントン会議の決定にもとづくことがらを述べた文として最も適当なものを、次のア～エから 1 つ選び、その記号を書きなさい。

- ア. 日本は、ロシアからふとに樺太(サハリン)の領有を認め、千島全島ちしまを日本領とした。
- イ. 日本は、山シヤントン東省の權益けんえきを中国に返し、海軍の軍備も制限された。
- ウ. 日本は、旅順リョウシュン・大連ターリエンの租借そしやくの期限を延長することが認められた。
- エ. 日本は、満州国まんしゅうの不承認ふしやうにんと占領地からの引き上げを勧告かんこくされた。

(b) 次の資料 4 は、地域別に見る国際連盟こくさいれんごうへの加盟国数の推移を示したものである。資料 4 に で示した時期にヨーロッパ(旧ソ連をふくむ)地域で加盟国数が増えたのはなぜか、その理由の 1 つとして考えられることを、「ソ連」という言葉を用いて、書きなさい。

〈資料 4〉 地域別に見る国際連盟への加盟国数の推移

(国数)



次のページへ→

5

次の文は、4人の生徒が公民的分野の学習で、それぞれ関心のあるテーマについて調べ、発表した内容の一部である。これを読み、あとの各問いに答えなさい。(14点)

【地方自治について】

地方自治は、市町村や都道府県などの地方公共団体を単位として行われています。住民には、^①首長や地方議員の選挙権や^②直接請求権が保障されています。

【日本国憲法について】

日本国憲法では、天皇は日本国と日本国民統合の「象徴」です。天皇は、^③政治についての決定権を持たず、憲法に定める^④国事行為のみを行います。

【市場経済について】

商品が市場を通じて自由に取り引きされ、価格が決まる経済のしくみを^⑤市場経済といいます。市場がうまくはたらくためには、価格が自由に変化しなければなりません。

【政府(国や地方公共団体)の経済活動について】

政府の経済活動には、^⑥公共的な財やサービスの提供、^⑦経済を安定させるための対策などいくつかの役割があり、このような政府の経済活動を^⑧財政といいます。そのうち国の収入(歳入)は、おもに、国民が義務として納める税金(租税)と、国の借金である国債などを発行して得られる^⑨公債金からなります。

(1) 下線部①について、次の(a)、(b)の各問いに答えなさい。

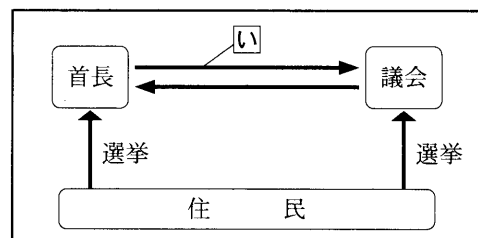
(a) 右の資料1は、地方自治について説明したもの(資料1)

である。文中の **あ** にあてはまる言葉として最も適当なものを、次のア～エから1つ選び、その記号を書きなさい。

地方自治は「**あ**の学校」といわれています。**あ**とは、みんなで話し合い決定するというやり方のことです。

〔ア. 民主主義 イ. 平和主義 ウ. 自由主義 エ. 社会主義〕

(b) 右の資料2は、地方自治のしくみを説明したものである。首長と議会との間の矢印は、首長と議会がたがいに抑制と均衡をはかるためのはたらきを示している。資料2の首長から議会に向いた矢印 **い** は、どのようなはたらきを示しているか、最も適当なものを次のア～エから1つ選び、その記号を書きなさい。



〔ア. 不信任決議 イ. 解散 ウ. 監査請求 エ. 住民投票〕

(2) 下線部②について、条例の制定または改廃の請求のために最低限必要な署名数は、有権者総数の何分の1以上か、書きなさい。

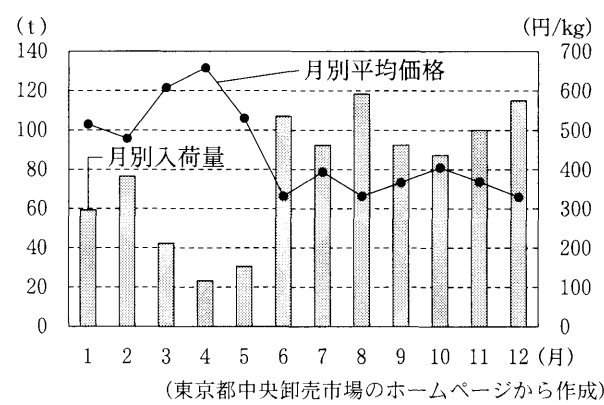
(3) 下線部③について、日本国憲法の3つの基本原則のうち、国の政治の最終的な決定権は国民が持ち、政治は国民の意思にもとづくという基本原則を何というか、書きなさい。

(4) 下線部④について、天皇の国事行為にあたるものとして最も適当なものを、次のア～エから1つ選び、その記号を書きなさい。

〔ア. 最高裁判所長官の指名 イ. 国務大臣の任命〕
 ウ. 憲法改正の発議 エ. 国会の召集〕

(5) 下線部⑤について、右の資料3は、スルメイカの月別入荷量と月別平均価格の変化を示したものである。スルメイカの月別入荷量と月別平均価格にはどのような関係があるか、資料3から読み取り、書きなさい。

〈資料3〉 東京都足立市場におけるスルメイカの月別入荷量と月別平均価格の変化(2007年)



(6) 下線部⑥について、教育施設、道路、港湾、水道など、おもに国や地方公共団体が提供する産業や生活の基盤となる公共施設を何というか、書きなさい。

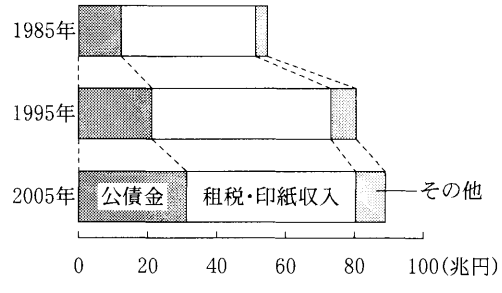
(7) 下線部⑦について、右の資料4の文中にあるⅠ～Ⅲにあてはまる言葉の組み合わせとして最も適当なものを、次のア～エから1つ選び、その記号を書きなさい。

＝経済を安定させるための対策について＝
 不景気のときには、消費が低迷して物価が下落する、つまりⅠのおそれがあるので、政府は、Ⅱを行ったり、公共支出(公共投資)をⅢしたりする。

- ア. Ⅰ—インフレーション Ⅱ—減税 Ⅲ—増加
- イ. Ⅰ—インフレーション Ⅱ—増税 Ⅲ—削減
- ウ. Ⅰ—デフレーション Ⅱ—減税 Ⅲ—増加
- エ. Ⅰ—デフレーション Ⅱ—増税 Ⅲ—削減

(8) 下線部⑧について、次の資料5は、国の収入(歳入)の内訳の推移、資料6は、国の支出(歳出)の内訳の推移を示したものである。国の財政において、資料5のように、公債金が増えているのはなぜか、その理由として考えられることを、資料5、資料6から読み取り、書きなさい。

〈資料5〉 国の収入(歳入)の内訳の推移



〈資料6〉 国の支出(歳出)の内訳の推移

		1985年	1995年	2005年
内 訳	社会保障関係費	9.9	14.5	20.8
	国債費	10.2	12.8	19.6
	地方交付税交付金	9.7	12.3	15.9
	公共事業関係費	6.9	12.8	8.0
	文教・科学振興費	4.9	6.7	5.8
	防衛関係費	3.2	4.7	4.9
	その他	8.2	12.1	14.0
総 額		53.0	75.9	89.0

(資料5、資料6は、「数字でみる日本の100年」から作成)

—おわり—