

平成20年度学力検査

C 社 会 (11時30分～12時15分, 45分間)

問 題 用 紙

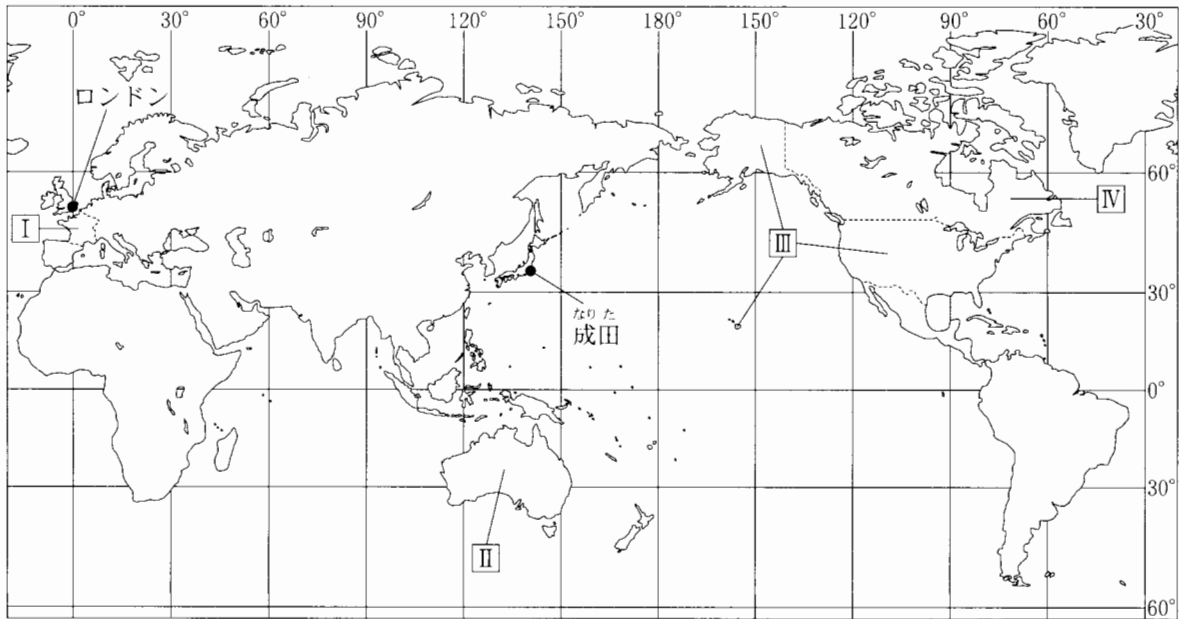
注 意

1. 「開始」の合図があるまで開いてはいけません。
2. 答えは、すべて**解答用紙**に書きなさい。
3. 問題は、**1** から **5** までで、10ページにわたって印刷してあります。
4. 「開始」の合図で、**解答用紙**の決められた欄に**受験番号**を書きなさい。
5. 問題を読むとき、声を出してはいけません。
6. 「終了」の合図で、すぐに筆記用具を置きなさい。

1

緯線と経線が直角に交わった次の略地図を見て、あとの各問いに答えなさい。(9点)

〈略地図〉



〔国境は一部省略。国境については、確定していないところもある。〕〔2006/07世界国勢図会〕、ほかから作成

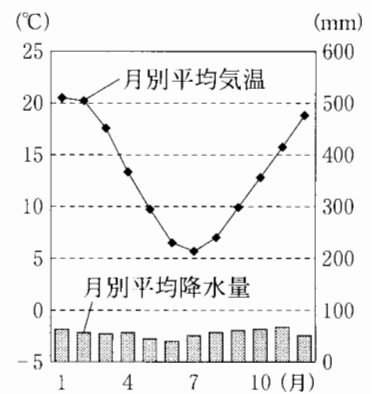
(1) 略地図にⅠ～Ⅳで示した4か国について、次の(a)～(c)の各問いに答えなさい。

(a) Ⅰ～Ⅳで示した4か国のそれぞれの国名として最も適当なものはどれか、次のア～エから1つずつ選び、その記号を書きなさい。

〔ア. アメリカ イ. オーストラリア ウ. カナダ エ. フランス〕

(b) 右の資料1は、Ⅰ～Ⅳで示した4か国のうち、いずれか

〈資料1〉
 の国の首都における月別平均気温と月別平均降水量を示したものである。資料1は、どの国の首都の月別平均気温と月別平均降水量を示したものが、最も適当なものをⅠ～Ⅳから1つ選び、その記号を書きなさい。また、そのように判断した理由を、資料1から読み取れることをもとにして、書きなさい。



〔理科年表2005〕から作成

(c) I～IVで示した4か国は、小麦の輸出量上位4か国であり、右の資料2はこれらの国の小麦の生産量などを示したものである。

Iで示した国について、資料2から読み取れることを正しく述べたものはどれか、最も適当なものを次のア～エから1つ選び、その記号を書きなさい。

- ア. 4つの国のうち、小麦の収穫面積1haあたりの小麦の生産量が最も多い。
- イ. 4つの国のうち、小麦の収穫面積1haあたりの小麦の生産量が最も少ない。
- ウ. 4つの国のうち、農業従事者1人あたりの小麦の生産量が最も多い。
- エ. 4つの国のうち、農業従事者1人あたりの小麦の生産量が最も少ない。

〈資料2〉 略地図にI～IVで示した国の小麦の生産量など(2003年)

略地図に示した国の記号	小麦の生産量(万t)	小麦の収穫面積(万ha)	農業従事者(万人)
I	3,058	490	78
II	2,490	1,246	44
III	6,359	2,138	285
IV	2,355	1,047	36

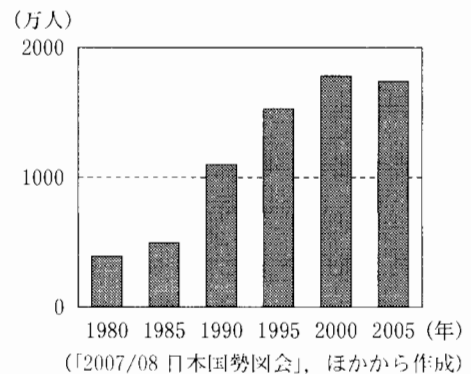
(「2007データブック オブ・ザ・ワールド」、ほかから作成)

(2) 略地図に示した成田には、日本人海外旅行者が最も多く利用する成田国際空港がある。このことについて、次の(a)、(b)の各問いに答えなさい。

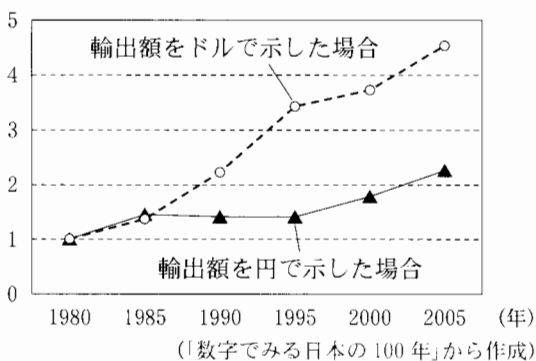
(a) 成田国際空港を日本時間2月1日13時に離陸した飛行機が、12時間の飛行をして、略地図に示したロンドンにある国際空港に着陸した。着陸したときの現地時間は何月何日何時か、書きなさい。

(b) 右の資料3は、日本人海外旅行者数の推移を示したものであり、次の資料4は、1980年の輸出額を1とした日本の輸出額の推移を示したものである。日本人海外旅行者数が、1985年から1995年にかけて大幅に増加しているのはなぜか、その理由の1つとして考えられることを、資料4に示した輸出額の推移が円で示した場合とドルで示した場合で異なることに着目して、書きなさい。

〈資料3〉 日本人海外旅行者数の推移



〈資料4〉 1980年を1とした日本の輸出額の推移



〔注：1980年の輸出額は、円で示した場合、約29兆円、ドルで示した場合、約1300億ドルである。〕

次のページへ→

2 次の略地図を見て、あとの各問いに答えなさい。(9点)

(1) 次の資料1は、江戸時代末期、欧米4か国の連合艦隊に占領された砲台のようすを示している。資料1に示した砲台はどこにあったか、その場所を示す略地図中の記号と、当時、砲台を占領された藩の名称の組み合わせとして最も適当なものを、次のア～エから1つ選び、その記号を書きなさい。

〈略地図〉



(「2007/08 日本国勢図会」、ほかから作成)

〈資料1〉 占領された砲台のようす

※「占領された長州藩の下関砲台」の写真

- | | |
|--------------|----------|
| ア. 略地図中の記号—X | 藩の名称—薩摩藩 |
| イ. 略地図中の記号—X | 藩の名称—長州藩 |
| ウ. 略地図中の記号—Y | 藩の名称—薩摩藩 |
| エ. 略地図中の記号—Y | 藩の名称—長州藩 |

(2) 略地図に で示した道県は、2004年の漁獲量上位4道県を示している。このことについて、次の(a)～(c)の各問いに答えなさい。

(a) 右の資料2は、略地図に で示した4道県の漁獲量を示したものである。資料2のAにあてはまる県はどこか、その県名を書きなさい。


〈資料2〉 漁獲量上位4道県(2004年)

順位	道県名	漁獲量(万t)
1	北海道	149
2	A	40
3	長崎県	31
4	青森県	29

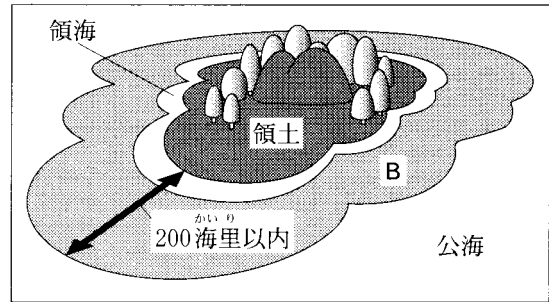
(「2007 データでみる県勢」から作成)

(b) さまざまな産業を、第1次産業、第2次産業、第3次産業に分類すると、漁業は第1次産業に分類することができる。漁業と同様に第1次産業に分類される産業はどれか、最も適当なものを次のア～エから1つ選び、その記号を書きなさい。

- 〔ア. 林業 イ. 建設業 ウ. 運輸業 エ. 金融業〕

(c) 右の資料3に  で示したBの水域 〈資料3〉

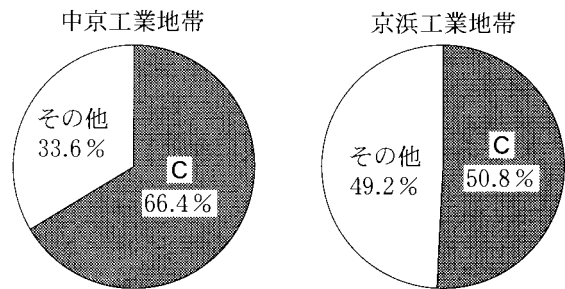
は、沿岸国が水産資源などを利用する権利をもつ水域である。このBの水域を何というか、書きなさい。



(3) 略地図に示した三重県と東京都について調べ学習をしていたかずみさんは、三重県と東京都の工業の特色を比較しようと、いくつかの資料を作成した。このことについて、次の(a), (b)の各問いに答えなさい。

(a) 右の資料4は、ちゆうきやう中京工業地帯と京浜けいひん工業地帯で工業出荷額が最も多い製造業を

示すために、かずみさんが作成したものである。資料4にCで示した業種は、どのような製品を製造する業種か、最も適当なものを次のア～エから1つ選び、その記号を書きなさい。

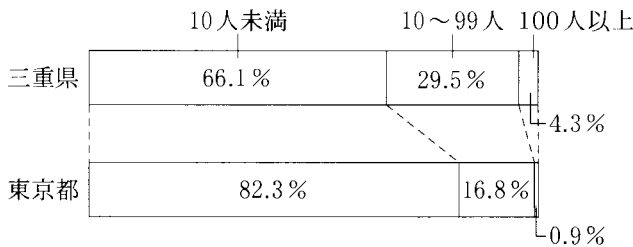


〔2007/08 日本国勢図会〕から作成

- 〔ア. 金属製品 イ. 化学製品〕
- 〔ウ. 機械製品 エ. 食料品 〕

(b) 次の資料5と資料6は、三重県と東京都の製造事業所の特色を発表するために、かずみさんが作成したものである。三重県の製造事業所にはどのような特色が見られるか、「従業者規模別の製造事業所数の割合」と「1事業所あたりの工業出荷額」を、東京都の製造事業所と比較して、書きなさい。

〈資料5〉 従業者規模別の製造事業所数の割合(2004年)



〔注：資料5に示した割合について、四捨五入の関係から、必ずしも合計は100%にならない。〕

〈資料6〉 製造事業所数と工業出荷額(2004年)

	製造事業所数	工業出荷額(億円)
三重県	8,024	88,110
東京都	46,227	114,940

〔資料5、資料6は、「2007 データ」でみる県勢〕から作成

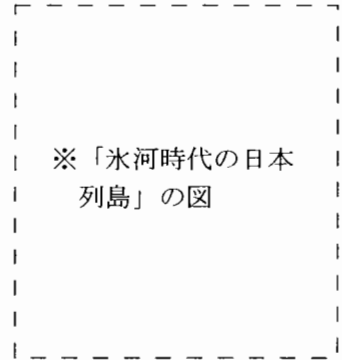
次のページへ→

3 あきらさんの学級では、歴史的分野の学習をすすめるなかで、調べ学習を5回行った。右の表は、そのテーマをまとめたものである。これを見て、あとの各問いに答えなさい。(9点)

	調べたテーマ
第1回	① <u>縄文時代までの日本列島のようす</u> について
第2回	② <u>仏教にかかわる平安時代の出来事</u> について
第3回	③ <u>鎌倉時代の武士による政治</u> について
第4回	④ <u>室町時代の文化や農民のくらし</u> について
第5回	⑤ <u>江戸時代の産業とヨーロッパの動き</u> について

(1) 下線部①について、あきらさんは、右の資料1を見つけた。そ (資料1)

れまで大陸と陸続きになっていた日本列島が、およそ1万年前にほぼ現在の姿になったのはなぜか、気候と海面がどのように変化したかにふれて、その理由を書きなさい。



(2) 下線部②について述べた文として最も適当なものはどれか、次のア～エから1つ選び、その記号を書きなさい。

- ア. 信仰で固く結ばれた一向宗の信徒が中心となって、一向一揆を起こした。
- イ. 最澄と空海は中国で仏教を学び、最澄は天台宗を、空海は真言宗を日本に広めた。
- ウ. 日蓮は、法華経の題目を唱えれば、人も国家も救われると説いた。
- エ. 聖武天皇は、社会の不安を取り除こうと地方の国ごとに国分寺と国分尼寺を建てた。

(3) 下線部③について、あきらさんは、右の資料2のように調べたことをノートにまとめた。資料2の文中の A、B

のそれぞれにあてはまる言葉は何か、書きなさい。

＝御家人による領地支配について＝

- 源頼朝は、国ごとに A を、荘園や公領に B をおき、御家人にこの職をあたえた。
- B がおかれた荘園や公領に住む農民は、荘園領主と B の二重の支配を受けることになった。
- A の多くは、のちに自分の領地を拡大して A 大名へと成長した。

(4) 下線部④について、次の(a), (b)の各問いに答えなさい。

〈資料3〉 銀閣のある慈照寺の
東求堂同仁齋

(a) あきらさんは、室町時代の文化について調べるうち、右の資料3を見つけた。資料3の東求堂同仁齋について述べた文として最も適当なものはどれか、次のア～エから1つ選び、その記号を書きなさい。

- ア. 五絃琵琶などの美術工芸品を納めた宝庫である。
- イ. 壮大な天守閣の内部につくられたものである。
- ウ. 現存する世界最古の木造建築物の一部である。
- エ. 違い棚や付書院などを設けた書院造である。

※「東求堂同仁齋」の写真

(b) 室町時代の農民の暮らしについて述べた文として最も適当なものはどれか、次のア～エから1つ選び、その記号を書きなさい。

- ア. 五人組の制度により、犯罪の防止や年貢の納入に共同の責任を負った。
- イ. 戸籍に登録された6歳以上の男女に口分田が割りあてられ、税を納めた。
- ウ. 惣をつくり、寄合で、山野の利用や用水の配分など、村のおきてを定めた。
- エ. 座をつくり、公家や寺社などの保護を受けて、販売などの独占権を主張した。

(5) 下線部⑤について、あきらさんは、当時の日本とイギリスでの綿織物の生産について調べるうち、右の資料4を見つけた。19世紀前半のイギリスとインドの綿織物の輸出額が資料4のように推移した理由の1つとして、18世紀のイギリスで綿織物がどのように生産されるようになったことがあげられるか、生産の方法にふれて、書きなさい。

〈資料4〉 イギリスとインドの綿織物の輸出額の推移

※『インド史』の「インド綿布とランカシア綿布」のグラフから作成

次のページへ→

4 みなみさんは、歴史的分野の学習をすすめるなかで、日本と外国の関係についてさらに詳しく調べたいと思ったポイントを、右のようにまとめた。これを見て、あとの各問いに答えなさい。(9点)

	さらに詳しく調べたいと思ったポイント
ポイント①	室町時代から江戸時代にかけてのヨーロッパとの交流
ポイント②	明治時代の政府による日本の近代化
ポイント③	第二次世界大戦後の日本の国際関係と産業構造の変化

(1) ポイント①について、みなみさんは、当時 (資料1)

の出来事を年代順に示した右の資料1を作成した。これについて、次の(a)、(b)の各問いに答えなさい。

(a) 資料1のⅠについて、ザビエルの来日には、アフリカ大陸の南端をまわりインドに到達する航路が用いられた。この航路を15世紀末に発見した人物はだれか、書きなさい。

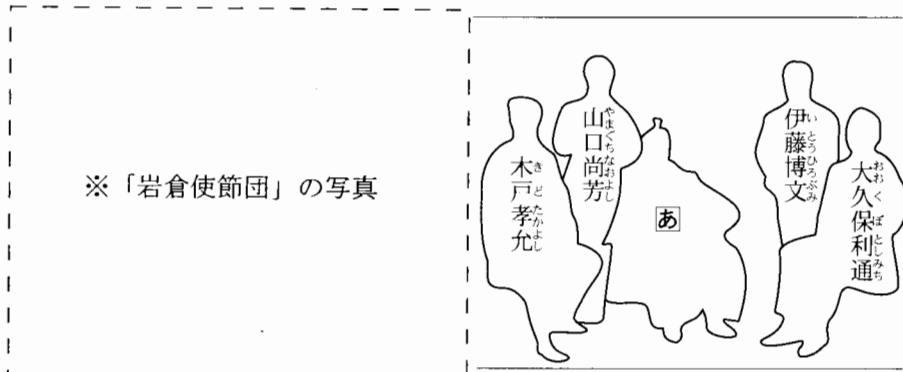
- Ⅰ イエズスの宣教師ザビエルがキリスト教を伝えるため来日した。
- Ⅱ 幕府は、平戸にあったオランダ商館を長崎の出島に移した。
- Ⅲ アメリカの使節ペリーが、浦賀に来航し、幕府に開国をせまった。

(b) 資料1のⅡの出来事からⅢの出来事までの期間に起こった出来事について述べた文として最も適当なものはどれか、次のア～エから1つ選び、その記号を書きなさい。

- ア. 幕府は、海岸の防備を固め、異国船(外国船)打払令を出した。
- イ. 幕府は、日米和親条約を結び、下田(静岡県)と函館(北海道)の港を開いた。
- ウ. キリスト教に対するとりしまりなどに反対した人々が、島原・天草一揆を起こした。
- エ. 幕府は、大名や大商人に海外渡航を許可し、朱印船貿易をすすめた。

(2) ポイント②について、みなみさんは、明治時代初期に欧米の文化や制度を学んで帰国した使節団のうちの5人を示した次の資料2を見つけた。これについて、次の(a)、(b)の各問いに答えなさい。

(資料2)



(a) 資料2に「あ」で示したこの使節団の代表であった人物はだれか、最も適当なものを次のア～エから1つ選び、その記号を書きなさい。

- ア. 板垣退助
- イ. 岩倉具視
- ウ. 大隈重信
- エ. 西郷隆盛

- (b) 資料2に示した伊藤博文は、この後ふたたびヨーロッパへ派遣され、帰国後、憲法草案の作成をはじめた。この派遣で、伊藤博文はドイツ(プロイセン)の憲法を中心に調査したが、それはドイツ(プロイセン)の憲法にどの (資料3) ような特徴があったからか、右の資料3を参考にして、書きなさい。

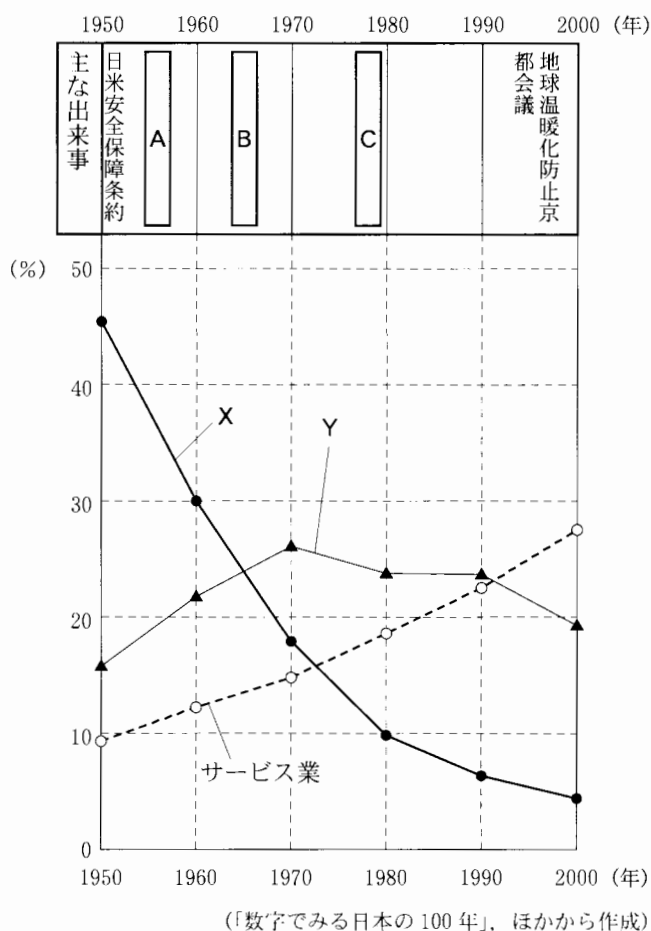
大日本帝国憲法(一部)
 第1条 大日本帝国ハ万世一系ノ天皇之ヲ統治ス

- (3) ポイント③について、みなみさんは、戦後の日本の国際関係に関する主な出来事と就業者総数に占める農業、製造業、サービス業の各就業者の割合の推移を示した次の資料4を作成した。これについて、次の(a)、(b)の各問いに答えなさい。

- (a) 資料4の **A** ~ **C** (資料4) 戦後の日本の国際関係に関する主な出来事と就業者総数に占める農業、製造業、サービス業の各就業者の割合のそれぞれにあてはまる出来事として最も適当なものはどれか、次のア~ウから1つずつ選び、その記号を書きなさい。

- ア. 日韓基本条約
 イ. 国際連合加盟
 ウ. 日中平和友好条約

- (b) 資料4に示したX、Yのグラフのうち、製造業の推移を示しているのはどちらか、その記号を書きなさい。また、就業者総数に占める製造業就業者の割合はどのように推移しているか、「高度経済成長期」、「石油危機のころ」という言葉を用いて、簡単に書きなさい。



次のページへ→

5

ゆうきさんの学級では、公民的分野の学習のまとめとして、各班ごとに現代社会の課題について調べ、発表した。右のカードは、発表タイトルを黒板に掲示するために各班が作成したものである。これを見て、あとの各問いに答えなさい。(14点)

- A 班
① 労働条件と雇用の改善
- B 班
② 社会保障と福祉の向上
- C 班
③ 民主政治の推進
- D 班
④ 企業の役割と消費者の利益

(1) 下線部①について、次の(a)~(c)の各問いに答えなさい。

(a) 日本国憲法は、労働三権を保障している。労働三権のうち、労働条件についての要求を実現するためにストライキなどをする権利を何というか、最も適当なものを次のア~エから1つ選び、その記号を書きなさい。

〔ア. 団体行動権 イ. 団体交渉権 ウ. 勤労の権利 エ. 団結権〕

(b) A 班は、右の資料1を作成し、女性の雇用の

(資料1)

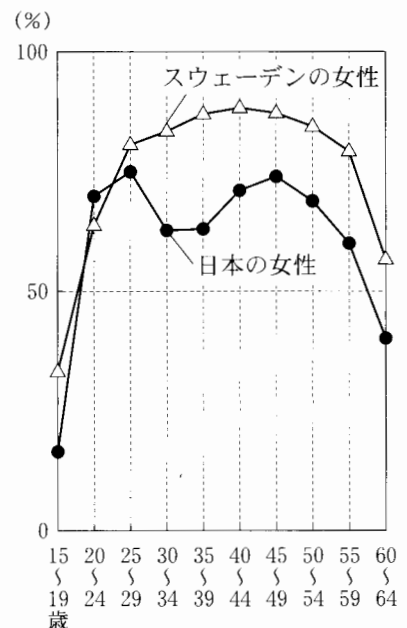
1979年	国際連合が	Ⅰ	を採択	
1985年	日本が	男女雇用機会均等法	を制定	
1999年	日本が	Ⅱ	を制定	
2000年	三重県が	三重県	Ⅲ	を制定

改善に向けた取り組みについて発表した。資料1の Ⅰ ~ Ⅲ のそれぞれにあてはまる言葉として最も適当なものはどれか、次のア~ウから1つずつ選び、その記号を書きなさい。

〔ア. 男女共同参画社会基本法 イ. 男女共同参画推進条例 ウ. 女子差別撤廃条約〕

(c) A 班は、右の資料2と次の資料3を作成し、日本の女性の労働に関する現状について発表した。これについて、次の㉞、㉟の各問いに答えなさい。

(資料2) 日本とスウェーデンの年齢別の働いている女性の割合(2005年)



㉞ 資料2に示した日本の女性とスウェーデンの女性のグラフを比較した場合、日本の女性にはどのような特徴があるか、30歳代の割合に着目して、書きなさい。

㉟ 30歳代の日本の女性の特徴をふまえ、男女共同参画社会をより推進するためには、どのようにすればよいと考えられるか、資料3から読み取れることをもとにして、書きなさい。

(資料3) 子どもが3歳になるまでの間に、出産・育児のために仕事を休んだ経験がある人などの割合(2005年)

	休んだ	休まなかった	仕事をやめた
日本の女性	51.6%	16.1%	32.3%
スウェーデンの女性	95.2%	0.8%	4.0%
日本の男性	46.3%	53.5%	0.2%
スウェーデンの男性	90.6%	9.1%	0.3%

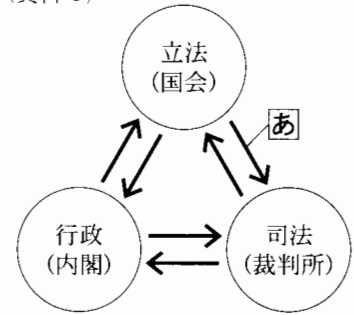
〔注：資料3は、0~12歳の子どもをもつ人で、子どもの誕生から3歳になるまでの間に働いていたことのある人を対象に調査した結果である。〕

(資料2は、「2007 世界の統計」、資料3は、「家庭教育に関する国際比較調査報告書」から作成)

(2) 下線部②について、B班は、日本の社会保障を社会保険、公的扶助、社会福祉、公衆衛生の4つの柱に分類して発表した。社会保障の1つである下水道の整備は、この4つの柱のうちのどれに分類されるか、最も適当なものを次のア～エから1つ選び、その記号を書きなさい。

〔ア. 社会保険 イ. 公的扶助 ウ. 社会福祉 エ. 公衆衛生〕

(3) 下線部③について、C班は、日本の民主政治のしくみを右の(資料4)資料4のようにまとめた。これについて、次の(a)、(b)の各問いに答えなさい。



(a) 資料4のように、立法を国会、行政を内閣、司法を裁判所が担当し、それぞれが相互に抑制し合い、均衡を保つしくみを何というか、書きなさい。


(b) 資料4に \longrightarrow で示した矢印は、国会、内閣、裁判所が相互に抑制し合い、均衡を保つためのはたらきを示している。これらのうち、国会から裁判所に向けた「あ」の矢印は、どのようなはたらきを示しているか、最も適当なものを次のア～エから1つ選び、その記号を書きなさい。

- | | |
|-------------|------------------|
| 〔ア. 違憲立法の審査 | イ. 最高裁判所長官の指名 |
| ウ. 裁判官の弾劾裁判 | エ. 最高裁判所裁判官の国民審査 |

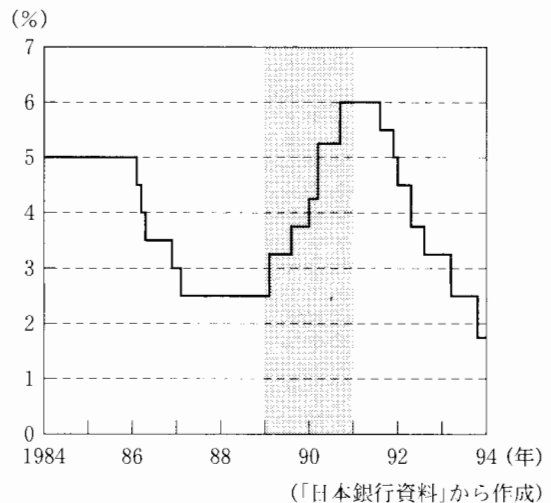
(4) 下線部④について、次の(a)～(c)の各問いに答えなさい。

(a) D班は、企業の生産活動と寡占や独占について調べた。寡占や独占に近づくと、商品の価格が市場でうまく調節されなくなり、消費者にとって商品の価格が不当に高くなるおそれがあるのはなぜか、その理由を書きなさい。

(b) 消費者の利益を守ることを目的に、独占禁止法にもとづいて設置された行政機関である委員会を何というか、書きなさい。

(c) D班は、企業や消費者に対して景気があたる影響について発表するために、日本銀行が行う公定歩合の上げ下げについて調べ、右の資料5を作成した。資料5に  で示した時期には公定歩合の引き上げが行われているが、それは主にどのような理由によるものと考えられるか、「景気」と「通貨」という言葉を用いて、書きなさい。

(資料5) 公定歩合の推移



—おわり—