

平成19年度学力検査

C 社 会 (11時30分～12時15分, 45分間)

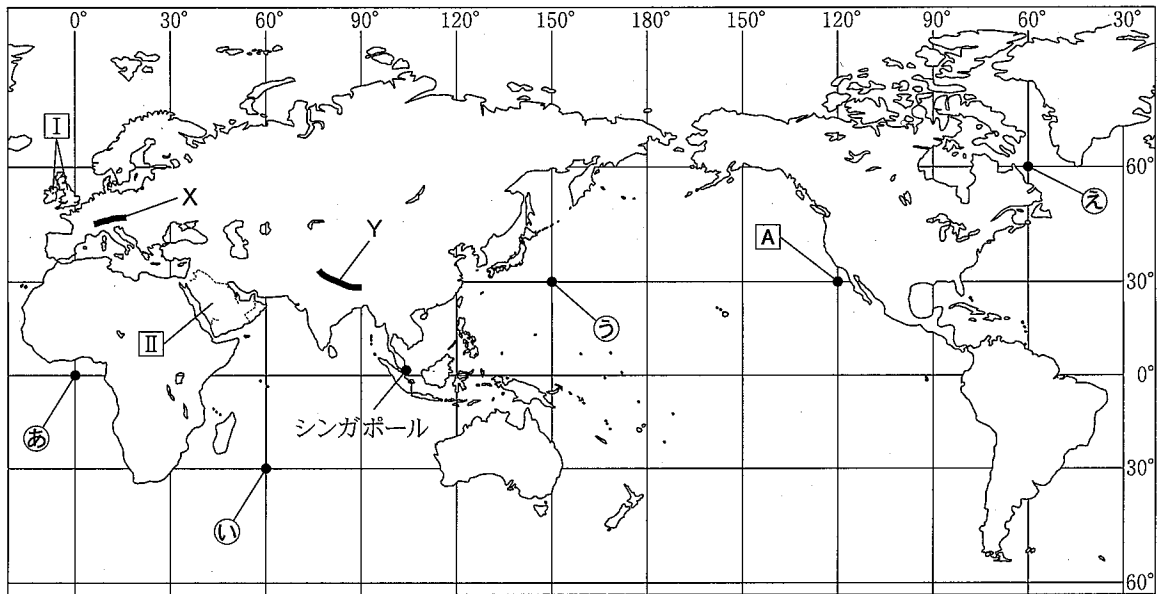
問 題 用 紙

注 意

1. 「開始」の合図があるまで開いてはいけません。
2. 答えは、すべて解答用紙に書きなさい。
3. 問題は、全部で6問で、10ページです。
4. 「開始」の合図で、まず、解答用紙の所定の欄に受検番号を書きなさい。
5. 問題を読むとき、声を出してはいけません。
6. 「終了」の合図で、すぐに筆記用具を置きなさい。

1 次の緯線と経線が直角に交わった略地図を見て、あとの各問いに答えなさい。(6点)

〈略地図〉

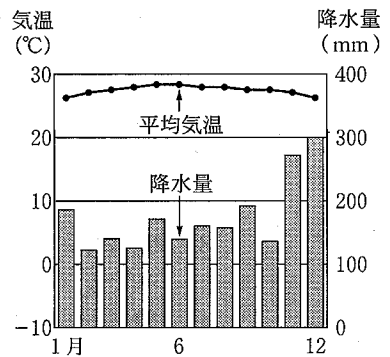


(2005/06 世界国勢図会, ほかから作成) [国境は一部省略。国境については、確定していないところもある。]

(1) 右の資料は、略地図に示したシンガポールにおける月別の平均気温と降水量を示したものである。シンガポールが属する気候帯は何か、最も適当なものを次のア～エから一つ選び、その記号を書きなさい。

- 〔ア. 熱帯 イ. 温帯〕
 〔ウ. 亜寒帯(冷帯) エ. 寒帯〕

〈資料〉 シンガポールにおける月別の平均気温と降水量

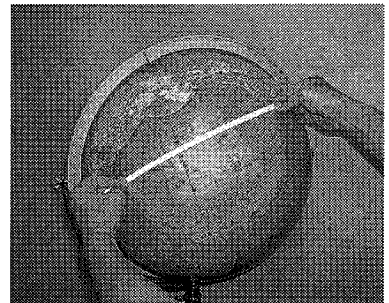


(2005 理科年表, ほかから作成)

(2) 略地図に — で示したあたりにある X および Y の 2 つの山脈は、同じ造山帯ぞうざんたいに属している。何という造山帯に属しているか、その名称を書きなさい。

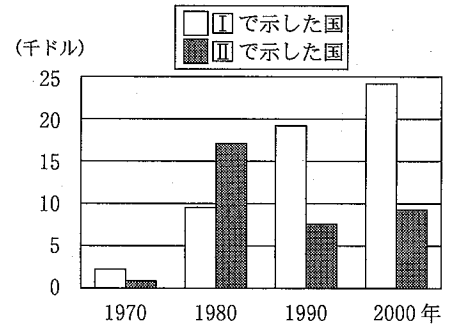
(3) 右の資料に示したように、地球儀ちきゅうぎと紙テープを用いて、略地図に A で示した点から ⑥～⑧ で示したそれぞれの点までの地球儀上での最短コースを見つけた。これらの最短コースのうち、その長さが最も長いものはどれか、最も適当なものを次のア～エから一つ選び、その記号を書きなさい。

- 〔ア. A から ⑥ までの最短コース〕
 〔イ. A から ⑦ までの最短コース〕
 〔ウ. A から ⑧ までの最短コース〕
 〔エ. A から ⑨ までの最短コース〕



(4) 右の資料1は、略地図にⅠおよびⅡで示した国における、1970年から2000年までの一人あたりの国内総生産の推移を示したものである。2つの国はともに原油輸出国であるが、Ⅱで示した国の一人あたりの国内総生産が、Ⅰで示した国と異なる推移を示しているのはなぜか、資料2、3から読み取れることにふれて、その理由の一つとして考えられることを、書きなさい。

〈資料1〉 ⅠおよびⅡで示した国の一人あたりの国内総生産の推移



〈資料2〉 ⅠおよびⅡで示した国の主要輸出品の総輸出額に占める割合

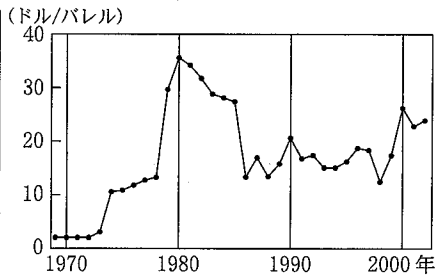
【Ⅰで示した国】

1970年	機械類(27.5%), 自動車(10.4%), 鉄鋼(4.3%)
1980年	機械類(23.5%), 原油(8.6%), 自動車(6.1%)
1990年	機械類(28.4%), 自動車(6.9%), 原油(5.0%)
2000年	機械類(35.2%), 自動車(8.5%), 原油(5.6%)

【Ⅱで示した国】

1970年	原油(87.3%), 石油製品(2.2%)
1980年	原油(94.5%), 石油製品(2.5%), 石油ガス(2.2%)
1990年	原油(74.1%), 石油製品(11.9%), 液化石油ガス(4.4%)
2000年	原油(79.0%), 石油製品(12.5%), 有機化合物(3.3%)

〈資料3〉 国際原油価格の推移




[注: 1バレルは約159リットル。]

(資料1～3は、2005/06 世界国勢図会およびエネルギー白書、ほかから作成)

2 次の資料を見て、あとの各問いに答えなさい。(3点)

〈資料〉



(国土地理院発行2万5千分の1地形図 平成7年修正測量「牛窓」から作成)

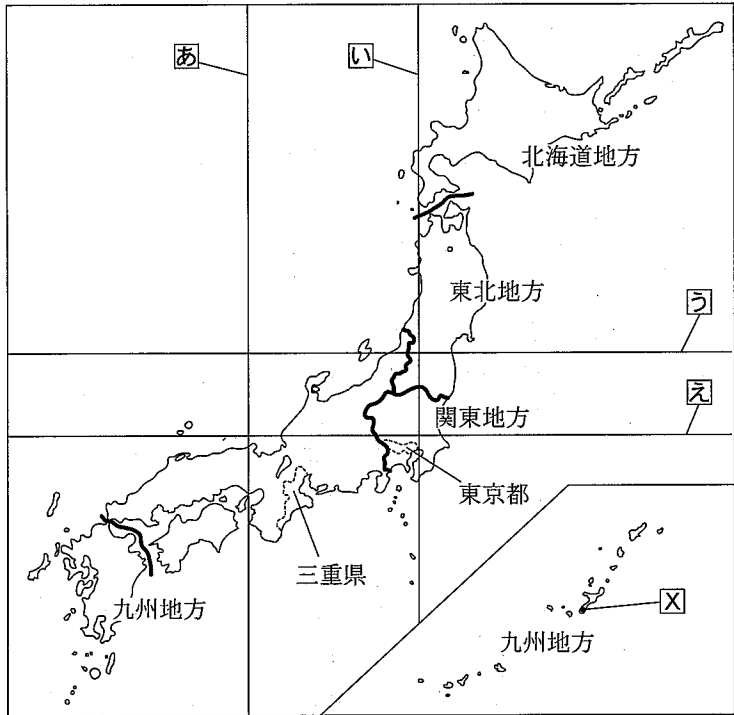
- 資料に で示した範囲の中で、海面からの高さが120m以上であると判断できる部分はどこか、すべて塗りつぶしなさい。
- 資料に●で示したア～エの点のうち、★で示した㊦の地点がほぼ北西に見えるとともに、◆で示した㊧の地点がほぼ西に見える点はどこか、最も適当なものをア～エから一つ選び、その記号を書きなさい。

次のページへ→

3 次の略地図を見て、あとの各問いに答えなさい。(9点)

〈略地図〉

(1) 略地図に㉠～㉤で示した緯線および経線のうち、日本の標準時子午線を示すものはどれか、最も適当なものを一つ選び、その記号を書きなさい。



(2006/07 日本国勢図会、ほかから作成)

(2) 略地図に示した北海道地方、東北地方、関東地方、九州地方のうち、人口密度が最も高い地方はどこか、最も適当なものを一つ選び、その地方名を書きなさい。

(3) 右の資料は、略地図に㉣で示したあたりにある城の写真である。この城は、15世紀に成立した琉球王国の都に建てられていたが、近年復元され、現在は世界遺産の一部となっている。この城の名称は何か、書きなさい。

〈資料〉

「首里城」の写真

(4) しのぶさんは、略地図に示した三重県を中心に、製造業について調べ学習を行った。このことについて、次の(ア)、(イ)の各問いに答えなさい。

(ア) しのぶさんは、三重県を含むいくつかの都道府県の製造業についてカードにまとめた。次のカードは、その中から取り出したものの一部である。これらのうち、三重県の製造業についてまとめたものはどれか、最も適当なものを次のア～エから一つ選び、その記号を書きなさい。

<p>ア</p> <p>大企業の本社が多く、情報発信の中心地であるため、印刷業がさかんである。</p>	<p>イ</p> <p>内陸部に位置するため製品を輸出する港はないが、自動車工業がさかんである。</p>	<p>ウ</p> <p>機械工業や食品工業がさかんであり、沿岸部が阪神工業地帯に属している。</p>	<p>エ</p> <p>近年、電子部品の製造が伸びており、一部の地域が、太平洋ベルトに属している。</p>
--	---	---	--

(イ) しのぶさんは、右の資料を用いて、三重県の製造業について、クラスで発表した。資料から読み取れることをもとに、次に示した「しのぶさんの発表内容(一部)」の中の(a), (b)にあてはまる適当なことばを、それぞれ書きなさい。

〈資料〉 三重県と全国の製造品出荷額等

	1991年	2005年
三重県	7.8兆円	9.4兆円
全国	340.8兆円	295.6兆円

〔注：資料は、従業者4人以上の事業所について集計したものである。〕

(経済産業省統計資料、ほかから作成)

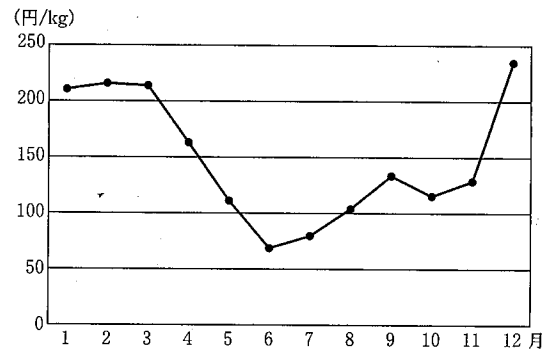
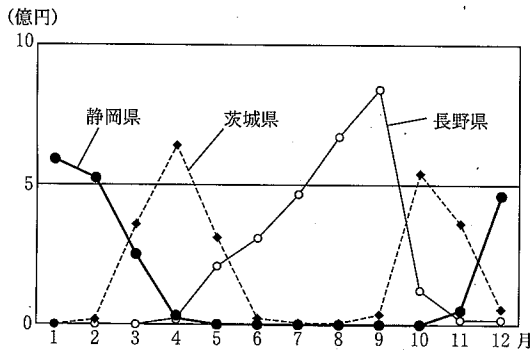
しのぶさんの発表内容(一部)

2005年の製造品出荷額等を1991年と比べると、全国の製造品出荷額等は、三重県とは逆に、(a)。このことから、全国の製造品出荷額等に占める三重県の割合は、1991年よりも2005年の方が、(b)といえる。

(5) 次の資料1～3は、略地図に示した東京都の中央卸売市場おろしうりしじょうにおける、レタスの取扱額とりあつかい上位3県の月別取扱額の推移などを示したものである。東京都中央卸売市場へのレタスの出荷しゆつかについて、静岡県しずおかには、茨城県いばらき、長野県ながのと異なるどのような特色があるか、資料1～3から読み取り、書きなさい。

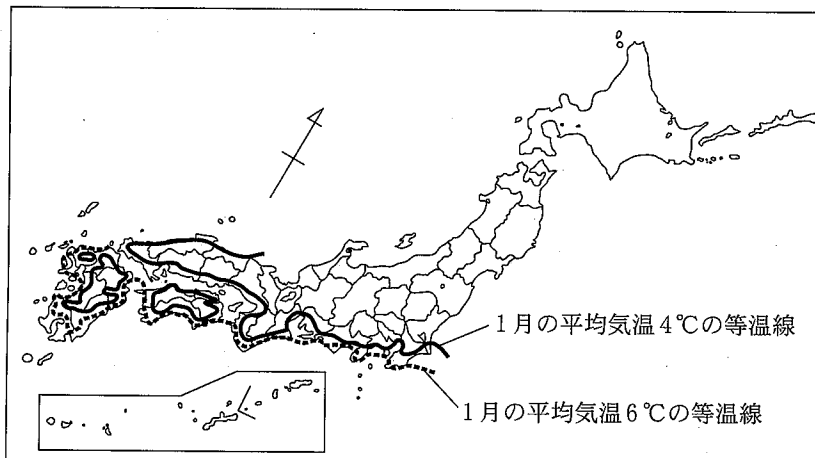
〈資料1〉 東京都中央卸売市場におけるレタスの取扱額上位3県の月別取扱額の推移(2005年)

〈資料2〉 東京都中央卸売市場におけるレタスの月別平均価格の推移(2005年)



(資料1, 2は、東京都中央卸売市場統計資料、ほかから作成)

〈資料3〉 1月の平均気温4℃と6℃の等温線(1971年～2000年の平均)



(気象庁ホームページ、ほかから作成)

次のページへ→

- 4 まさみさんのクラスでは、A～Dの班別にテーマを決めて調べ学習に取り組んだ。次の表は、各班のテーマと調べ学習の活動内容をまとめたものである。これを見て、あとの各問いに答えなさい。(8点)

班	テーマ	調べ学習の活動内容
A班	地域の遺跡や遺物	博物館で、地域の遺跡分布や地域で出土した <u>土器</u> などの遺物を調べた。 ①
B班	農業と人々の暮らし	図書館で、農業の発達と人々の暮らしについて、 <u>絵画資料</u> を中心に調べた。 ②
C班	地域の伝統文化	地域の人々を訪ねて、地域の伝統行事や <u>伝統芸能</u> について、話を聞きとった。 ③
D班	人物からみた歴史	図書館で、 <u>近世以降のわが国の歴史上の人物</u> について調べた。 ④

- (1) 下線部①について、弥生土器が使用されていた弥生時代のようすについて述べた文はどれか、最も適当なものを次のア～エから一つ選び、その記号を書きなさい。

- ア. 戸籍に登録された6歳以上の人々に、口分田が与えられた。
イ. 中国の歴史書によると、倭は100余りの小さな国に分かれていた。
ウ. 朱印船による貿易が行われ、東南アジアなどに日本町ができた。
エ. ナウマンゾウなどの大型動物を追って、人々も大陸から移動してきた。

- (2) 下線部②について、中世のわが国では、右の資料のように牛〈資料〉

を利用して田を耕すなど、さまざまな方法を用いた農業が行われたが、米の裏作として麦をつくることも行われた。このように、同じ耕地で年2回、別の作物をつくることを何というか、書きなさい。

「大山寺縁起絵巻」の一部

- (3) 下線部③の一つとして人形浄瑠璃がある。人形浄瑠璃の台本作者として有名な近松門左衛門が活躍した時期には、京都や大阪などの上方を中心に豊かな町人文化が発達していた。この上方を中心とした町人文化が発達していた時期に活躍した人物はだれか、最も適当なものを次のア～エから一つ選び、その記号を書きなさい。

- 〔ア. 井原西鶴 イ. 歌川(安藤)広重 ウ. 狩野永徳 エ. 杉田玄白〕

(4) D班は、下線部④について調べた内容をカードにまとめた。次のカード a, b は、その中から取り出したものの一部である。これらについて、あとの(ア), (イ)の各問いに答えなさい。

a

みずのただくに
(水野忠邦)

えど とうじゅう ぎょうほう かん
江戸時代後半に老中として、享保・寛

せい かいかく てんぽう
政の改革にならい天保の改革を行った

が、だいまよう はたもと
が、大名や旗本の反対にあうなどして、

失敗に終わった。

b

よしのさくぞう
(吉野作造)

たいしやう
大正時代に、民衆の意見を政治に反映さ

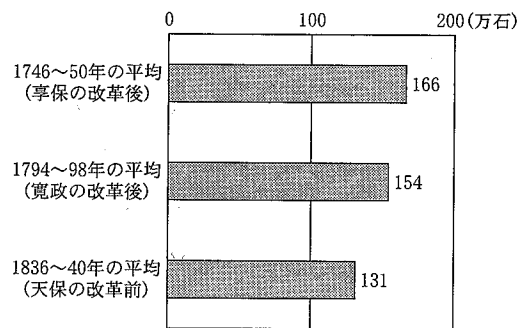
せるみんほんしゆぎ
せる民本主義を主張し、普通選挙の実現

を求める運動などに大きな影響を与え

た。

(ア) カード a について、D班は、天保の改革をさらに詳しく調べ、右の資料1と次の資料2を作成した。水野忠邦が天保の改革で行おうとしたことなかで、大名や旗本が反対したことはどのようなことか、資料1, 2から読み取れる天保の改革の目的の一つと考えられることによつて、「江戸・大阪周辺」ということばを用いて、書きなさい。

(資料1) 幕府の直轄地(幕領)における年貢の取り高の推移



(日本史辞典, ほかから作成)

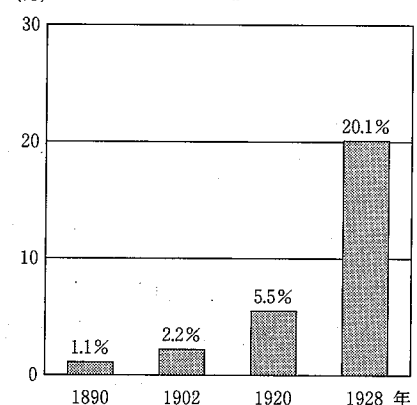
(資料2) 大名・旗本の領地に対する水野忠邦の考え(部分要約)

幕領のなかにはやせた土地も多くあるため、年貢の取り高の少ない所がある。現在、幕領よりも大名や旗本の領地の方に年貢の取り高の多い所がたくさんあるのは、不都合である。

(日本史料集成, ほかから作成)

(イ) カード b について、普通選挙の実現を求める運動などにより、わが国では、1925年に普通選挙制が実現した。右の資料3は、1890年から1928年における、全人口に占める有権者の割合の推移をまとめたものである。有権者の割合が、特に1920年から1928年にかけて大幅に増加しているのは、衆議院議員が国民の選挙によつて選出されると定められてから1925年まで選挙権を制限していたある条件が撤廃されたからであるが、それはどのような条件か、書きなさい。

(資料3) 全人口に占める有権者割合の推移



[注: 資料に示した各年は、主な衆議院議員総選挙の実施年を示す。]

(国史大辞典, ほかから作成)

次のページへ→

5 ひとしさんは、歴史的分野で学んだ内容を整理するために歴史ノートをつくった。右の表は、各時代区分ごとに、歴史ノートにまとめた項目の一部を取り出したものである。これを見て、あとの各問いに答えなさい。(10点)

時代区分	歴史ノートにまとめた項目の一部
古代	・古代につくられた都 ①
中世	・鎌倉時代から室町時代までの主な出来事 ②
近世	・江戸時代のわが国と世界各国のようす ③
近代・現代 (近現代)	・産業の発達と貿易の推移 ④ ・第二次世界大戦後のわが国の外交 ⑤

(1) 下線部①について、平城京を中心

に政治が行われていた奈良時代の出来事について述べた文はどれか、最も適当なものを次のア～エから一つ選び、その記号を書きなさい。

- ア. 百済を救援するために朝鮮半島に出兵したが、唐と新羅の連合軍に敗れた。
 イ. 東北地方の蝦夷を平定するために、坂上田村麻呂が征夷大將軍に任じられた。
 ウ. 国ごとに国分寺と国分尼寺を、都には大仏を本尊とする東大寺を、建てた。
 エ. 中大兄皇子は中臣鎌足らとはかり、蘇我氏を滅ぼして政治改革を始めた。

(2) 下線部②について、ひとしさんは授業で学習した内容を、次のようなカードにまとめた。

㉑～㉔のカードを、書かれた内容の古いものから順に並べると、どのようになるか、その記号を書きなさい。

㉑

幕府軍は、北九州に来襲した元軍の集団戦法とすぐれた火器により、苦戦をした。

㉒

後醍醐天皇は、幕府の滅亡後に、天皇を中心とする新たな政治を始めた。

㉓

細川氏と山名氏が將軍のあとつぎ問題などをめぐり対立し、11年にわたる戦乱が始まった。

㉔

後鳥羽上皇は、幕府をたおそうと兵をあげたが、幕府軍に敗れた。

(3) 下線部③について、次の文章はひとしさんがまとめたノートの一部である。文章中の

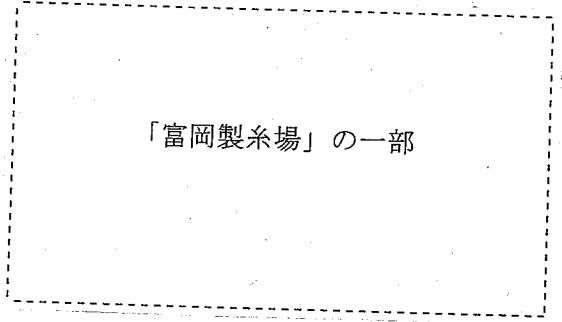
a と b にそれぞれあてはまる国名の組み合わせとして正しいものはどれか、下のア～エから一つ選び、その記号を書きなさい。


・17世紀前半：江戸幕府は、外国との交際を制限する政策をとったが、ヨーロッパ諸国のなかで a については、長崎の出島での貿易を許した。
 ・18世紀後半：松平定信による幕政の改革が行われたころ、ヨーロッパの b では革命がおり、人間はすべて自由と平等の権利をもち、主権は国民にあるとした人権宣言が出された。

- ア. a—オランダ b—イギリス イ. a—オランダ b—フランス
 ウ. a—ポルトガル b—イギリス エ. a—ポルトガル b—フランス

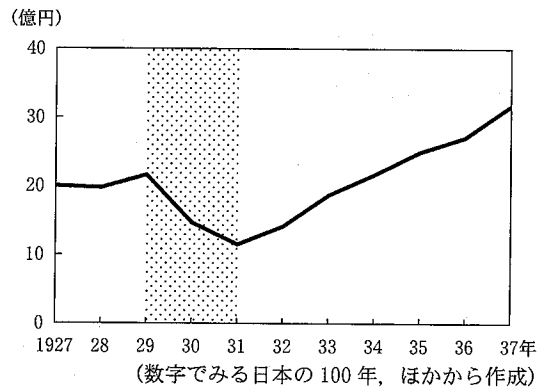
(4) 下線部④について、次の(ア)、(イ)の各問いに答えなさい。

(ア) 右の資料1は、明治時代に、現在の群馬県富岡市に政府が建てた官営工場(官営模範工場)のようすを描いたものである。この官営工場で作られた製品は、通商条約が結ばれて外国との貿易が始まって以来、わが国にとって重要な輸出品であったが、その製品は何か、書きなさい。



(イ) 右の資料2は、1927年から1937年における、わが国の輸出額の推移を表したものである。資料中の  で示した期間に、輸出額が減少している理由の一つとして考えられることはどのようなことか、最も適当なものを次のア～エから一つ選び、その記号を書きなさい。

(資料2) わが国の輸出額の推移



- ア. 第一次世界大戦でヨーロッパが主戦場になった影響が、わが国にも及んだこと
- イ. 連合国軍の大型爆撃機による日本本土への大規模な空襲が始まったこと
- ウ. 欧米諸国と結んでいた不平等条約が改正され、関税自主権が回復したこと
- エ. アメリカでの株価暴落をきっかけとする不況の影響が、わが国にも及んだこと

(5) 下線部⑤について、次の(ア)、(イ)の各問いに答えなさい。

(ア) わが国は、1951年にサンフランシスコ平和条約を48か国と結び独立を回復したが、この平和条約と同時に結ばれた条約は何か、最も適当なものを次のア～エから一つ選び、その記号を書きなさい。

- ア. 日韓基本条約
- イ. 日米安全保障条約
- ウ. 日ソ中立条約
- エ. 日中平和友好条約

(イ) わが国は、1956年に国際連合への加盟を実現した。ひとしさんは、わが国がそれ以前にも国際連合への加盟を求めていたが認められなかったことを知り、右の資料を作成した。資料は、1952年9月に行われた安全保障理事会における、わが国の加盟についての投票結果を示している。賛成が多数を占めたにもかかわらず、わが国の加盟が認められなかったのはなぜか、資料をもとに、常任理事国だけがもつ権限(権利)にふれて、その理由を書きなさい。

(資料) 安全保障理事会投票結果(1952年9月)

国数	
賛成	10か国
反対	1か国

注：安全保障理事会の構成国数は、1965年に11か国から15か国となったが、常任理事国数に変更はない。(当時の新聞記事, ほかから作成)

次のページへ→

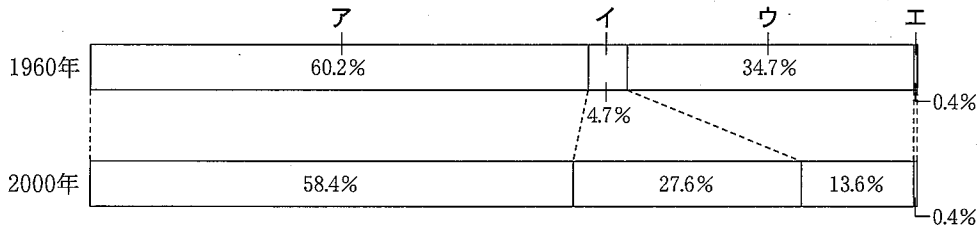
6

右の表は、中学校のあるクラスで行った公民的分野の調べ学習について、班ごとに調べたテーマをまとめたものである。これを見て、あとの各問いに答えなさい。(14点)

班	テーマ
A班	① <u>世帯の構成割合</u> から見た家族の形態の変化
B班	② <u>商品の価格の決まり方</u>
C班	③ <u>国民の権利および義務</u>
D班	④ <u>衆議院と参議院</u>
E班	日本による <u>国際社会への貢献</u>
F班	⑥ <u>国税収入の内訳</u>
G班	わたしたちの生活と <u>循環型社会</u> の形成

(1) 下線部①について、A班は、わが国の世帯を「核家族世帯」、「核家族以外の親族世帯」、「一人(単独)世帯」、「その他の世帯」に分類し、その構成割合の変化を、次の資料のように示した。「一人(単独)世帯」にあたるものはどれか、最も適当なものを資料に示したア～エから一つ選び、その記号を書きなさい。

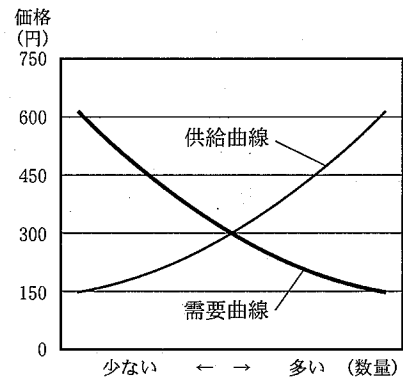
〈資料〉 世帯の構成割合の変化



(2005 統計でみる日本、ほかから作成)

(2) 下線部②について、B班は、市場における商品の価格の決まり方の一つの例を説明するために、右のような資料を作成した。これを見て、次の(ア)、(イ)の各問いに答えなさい。

〈資料〉 ある商品の需要曲線と供給曲線



(ア) 資料に示した商品の均衡価格として、最も適当なものを次のア～エから一つ選び、その記号を書きなさい。

〔ア. 150円 イ. 300円〕
〔ウ. 450円 エ. 600円〕

(イ) 資料に示したような市場で価格が決まる商品とは異なり、電気・ガス・水道の料金のように、国や地方公共団体の認可・決定により決まる料金を何というか、書きなさい。

(3) C班は、右のカードを用いて具体例を示し、下線部③に関連するある事柄について、クラスで発表した。C班の作成した右のカードは、どのような事柄の具体例を示したものが、最も適当なものを次のア～エから一つ選び、その記号を書きなさい。

C班が具体例を示したカード

- ・夜中に大声でさわいで「言論の自由だ」ということは許されません。
- ・職業選択の自由があるからといって、資格のない人が医師になることはできません。

〔ア. 請願権と請求権 イ. 報道の自由と知る権利〕
〔ウ. 人権と公共の福祉 エ. 生存権と社会保障制度〕

(4) 下線部④について、あとの(ア)、(イ)の各問いに答えなさい。

(ア) D班は、最近の参議院議員選挙について調べ、右の資料1を作成した。参議院議員選挙が資料1のように行われているのは、参議院議員の任期と改選がどのように定められているからか、書きなさい。

〈資料1〉 最近の参議院議員選挙
(通常選挙)

回	投票日
第17回	1995年7月23日
第18回	1998年7月12日
第19回	2001年7月29日
第20回	2004年7月11日

(三重県選挙管理委員会ホームページ、ほかから作成)

(イ) D班は、衆議院の解散について説明するために、次の資料2を作成した。資料2から、2002年1月21日から2005年9月21日までの間に、衆議院の解散が何回あったことがわかるか、その回数を書きなさい。

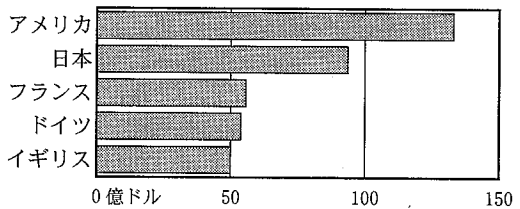
〈資料2〉 2002年から2005年までの国会の召集日

年	2002年		2003年			2004年			2005年	
	常会	臨時会	常会	臨時会	特別会	常会	臨時会	臨時会	常会	特別会
召集日	1月21日	10月18日	1月20日	9月26日	11月19日	1月19日	7月30日	10月12日	1月21日	9月21日

(国会ホームページ、ほかから作成)

(5) 下線部⑤について、E班は、右の資料を用いて、日本の援助額が世界有数の水準に達していることを説明した。このようにE班が説明した、「発展途上国の経済や福祉の向上などのために、日本など先進工業国が行う、さまざまな技術の協力や資金の援助」を何というか、書きなさい。

〈資料〉 主な先進工業国から発展途上国等への援助額(2002年)



(2005 世界の統計、ほかから作成)

(6) 右の資料は、下線部⑥について〈資料〉 国税収入の内訳の割合

て1995年度と2005年度の内訳の割合を、F班が示したものである。国税収入に占める間接税の割合は、1995年度と2005年

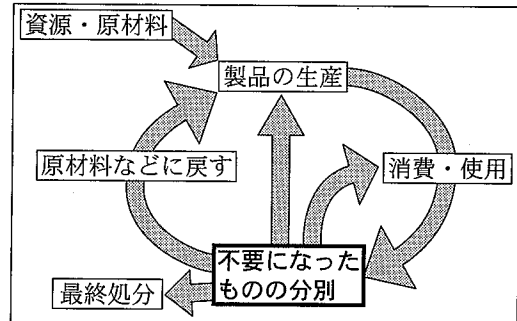
年度	所得税	法人税	消費税	酒税	その他の直接税	その他の間接税
1995年度	38%	24%	13%	4%	5%	16%
2005年度	28%	24%	22%	3%	5%	18%

(2006/07 日本国勢国会、ほかから作成)

度を比べた場合、何%から何%に変化したか、資料をもとにして、書きなさい。

(7) G班は、下線部⑦について説明するために、右〈資料〉 循環型社会のすがた

の資料を作成した。資料中に示した「不要になったものの分別」を適切にすすめることは、「資源・原材料」の消費量にどのような影響を与えると考えられるか、資料を参考に、理由を含めて、書きなさい。



(循環型社会白書、ほかから作成)

—おわり—

平成19年度学力検査

C 社 会

解 答 用 紙

受 検 番 号
番

得 点

1	(1)	
	(2)	造山帯
	(3)	
(4)		

2	(1)	
	(2)	

3	(1)	
	(2)	地方
	(3)	城
	(4)	(ア) <input type="checkbox"/>
	(イ) a	b
(5)		

4	(1)	
	(2)	
	(3)	
	(4)	(ア)
(イ)		

5	(1)	
	(2)	○ → ○ → ○ → ○
	(3)	
	(4)	(ア)
	(イ)	

6	(1)	
	(2)	(ア)
	(イ)	料金
	(3)	
	(4)	(ア)
	(イ)	回
	(5)	
(6)	%から %に変化した。	
(7)		